

# Banaras Hindu University

**Question Paper Name:** 714  
**Subject Name:** 714  
**Creation Date:** 2019-07-16 12:30:18  
**Duration:** 120  
**Total Marks:** 360  
**Display Marks:** Yes  
**Share Answer Key With Delivery Engine:** Yes  
**Actual Answer Key:** Yes

## MA in Heritage Management

**Group Number :** 1  
**Group Id :** 19823613  
**Group Maximum Duration :** 0  
**Group Minimum Duration :** 120  
**Revisit allowed for view? :** No  
**Revisit allowed for edit? :** No  
**Break time:** 0  
**Group Marks:** 360

## Sec I GK and CA

**Section Id :** 19823628  
**Section Number :** 1  
**Section type :** Online  
**Mandatory or Optional:** Mandatory  
**Number of Questions:** 30  
**Number of Questions to be attempted:** 30  
**Section Marks:** 90  
**Display Number Panel:** Yes  
**Group All Questions:** No

**Sub-Section Number:** 1  
**Sub-Section Id:** 19823633  
**Question Shuffling Allowed :** Yes

**Question Number : 1 Question Id : 1982361255 Question Type : MCQ Option Shuffling : Yes Display Question Number : Yes**  
**Single Line Question Option : No Option Orientation : Vertical Allowed Progression : Yes Number of Replay : 999 Play On Load : No Control Enable : Yes**

**Correct Marks : 3 Wrong Marks : 1**

Question Label : Multiple Choice Question

Who has been appointed as the High Commissioner of India to the Republic of Seychelles ?

सेशेल्स का भारतीय उच्चायुक्त किसे नियुक्त किया गया है ?

**Options :**

General Dalbir Singh Suhag

1. जनरल दलबीर सिंह सुहाग को

General Deepak Kapur

2. जनरल दीपक कपूर को

General Bikram Singh

3. जनरल बिक्रम सिंह को

Admiral Sunil Lamba

4. एडमिरल सुनील लाम्बा को

Question Number : 2 Question Id : 1982361256 Question Type : MCQ Option Shuffling : Yes Display Question Number : Yes  
Single Line Question Option : No Option Orientation : Vertical Allowed Progression : Yes Number of Replay : 999 Play On Load :  
No Control Enable : Yes

Correct Marks : 3 Wrong Marks : 1

Question Label : Multiple Choice Question

The rank of India in Global Talent Competitive Index, 2019 is :

विश्व प्रतिभा प्रतिस्पर्धा सूचकांक, 2019 में भारत का स्थान है :

Options :

80th

1. 80वाँ

75th

2. 75वाँ

50th

3. 50वाँ

85th

4. 85वाँ

Question Number : 3 Question Id : 1982361257 Question Type : MCQ Option Shuffling : Yes Display Question Number : Yes  
Single Line Question Option : No Option Orientation : Vertical Allowed Progression : Yes Number of Replay : 999 Play On Load :  
No Control Enable : Yes

Correct Marks : 3 Wrong Marks : 1

Question Label : Multiple Choice Question

Wangi-Wangi white eye bird has been discovered in :

वाँगी-वाँगी ह्वाइट आई बर्ड की खोज हुई है :

Options :

Indonesia

1. इण्डोनेशिया में

Sri Lanka

2. श्रीलंका में

Bangladesh

3. बांग्लादेश में

India

4. भारत में

Question Number : 4 Question Id : 1982361258 Question Type : MCQ Option Shuffling : Yes Display Question Number : Yes  
Single Line Question Option : No Option Orientation : Vertical Allowed Progression : Yes Number of Replay : 999 Play On Load :  
No Control Enable : Yes

Correct Marks : 3 Wrong Marks : 1

Question Label : Multiple Choice Question

Which of the Commission is *not* related to Centre-State relationship ?

निम्नलिखित में से कौन-सा आयोग केन्द्र-राज्य सम्बन्धों से सम्बन्धित *नहीं* है ?

Options :

Justice Thakkar Commission

1. न्यायमूर्ति ठक्कर आयोग

Justice Sarkaria Commission

2. न्यायमूर्ति सरकारिया आयोग

Justice Punchhi Commission

3. न्यायमूर्ति पंछी आयोग

Justice Rajmanner Commission

4. न्यायमूर्ति राजमन्नार आयोग

Question Number : 5 Question Id : 1982361259 Question Type : MCQ Option Shuffling : Yes Display Question Number : Yes  
Single Line Question Option : No Option Orientation : Vertical Allowed Progression : Yes Number of Replay : 999 Play On Load :  
No Control Enable : Yes

Correct Marks : 3 Wrong Marks : 1

Question Label : Multiple Choice Question

Who has recently been chosen for Danny Kaye Humanitarian Award ?

अभी हाल में डैनी काये मानवीय पुरस्कार के लिए किसे चयनित किया गया ?

Options :

Priyanka Chopra

1. प्रियंका चोपड़ा को

Sonam Kapoor

2. सोनम कपूर को

Kriti Sanon

3. कृति सेनन को

Deepika Padukone

4. दीपिका पादुकोण को

Question Number : 6 Question Id : 1982361260 Question Type : MCQ Option Shuffling : Yes Display Question Number : Yes  
Single Line Question Option : No Option Orientation : Vertical Allowed Progression : Yes Number of Replay : 999 Play On Load :  
No Control Enable : Yes

Correct Marks : 3 Wrong Marks : 1

Question Label : Multiple Choice Question

India has recently tested the 'Hypersonic Technology Demonstrator Vehicle'. Its expected maximum speed is :

भारत ने हाल में 'हाइपरसोनिक टेक्नोलॉजी डिमान्सट्रेटर वेहिकिल' का परीक्षण किया है। इसकी अनुमानित अधिकतम गति सीमा है :

Options :

1. MACH - 6

2. MACH - 5

3. MACH - 4

4. MACH - 2

Question Number : 7 Question Id : 1982361261 Question Type : MCQ Option Shuffling : Yes Display Question Number : Yes  
Single Line Question Option : No Option Orientation : Vertical Allowed Progression : Yes Number of Replay : 999 Play On Load :  
No Control Enable : Yes

Correct Marks : 3 Wrong Marks : 1

Question Label : Multiple Choice Question

A species of rain loving snake has been found in :

वर्षा पसन्द करने वाले साँप की प्रजाति पायी गयी है :

Options :

Mizoram

1. मिजोरम में

Gujarat

2. गुजरात में

Orissa

3. उड़ीसा में

Andhra Pradesh

4. आंध्र प्रदेश में

Question Number : 8 Question Id : 1982361262 Question Type : MCQ Option Shuffling : Yes Display Question Number : Yes  
Single Line Question Option : No Option Orientation : Vertical Allowed Progression : Yes Number of Replay : 999 Play On Load :  
No Control Enable : Yes

Correct Marks : 3 Wrong Marks : 1

Question Label : Multiple Choice Question

A 'National Maritime Heritage Museum' is being established in Lothal, an ancient Indian site of Gujarat. It is in cooperation with :

भारत के प्राचीन स्थल लोथल गुजरात में 'राष्ट्रीय समुद्री विरासत संग्रहालय' की स्थापना की जा रही है। इसमें सहयोग है :

Options :

- Portugal  
1. पुर्तगाल का
- France  
2. फ्रांस का
- Spain  
3. स्पेन का
- Turkey  
4. टर्की का

Question Number : 9 Question Id : 1982361263 Question Type : MCQ Option Shuffling : Yes Display Question Number : Yes  
Single Line Question Option : No Option Orientation : Vertical Allowed Progression : Yes Number of Replay : 999 Play On Load :  
No Control Enable : Yes

Correct Marks : 3 Wrong Marks : 1

Question Label : Multiple Choice Question

The highest weather station of the world has been established at :

विश्व का सबसे ऊँचा मौसम केन्द्र स्थापित किया गया है :

Options :

- Mount Everest  
1. एवरेस्ट पर्वत पर
- Mount Kailash  
2. कैलाश पर्वत पर
- Mount Kanchenjunga  
3. कंचनजंगा पर्वत पर
- Siachen  
4. सियाचिन में

Question Number : 10 Question Id : 1982361264 Question Type : MCQ Option Shuffling : Yes Display Question Number : Yes  
Single Line Question Option : No Option Orientation : Vertical Allowed Progression : Yes Number of Replay : 999 Play On Load :  
No Control Enable : Yes

Correct Marks : 3 Wrong Marks : 1

Question Label : Multiple Choice Question

The Rabindranath Tagore Literary Prize, 2019 was awarded to :

रवीन्द्रनाथ टैगोर साहित्य पुरस्कार, 2019 दिया गया है :

Options :

Rana Dasgupta

1. राणा दासगुप्ता को

Soma Ghosh

2. सोमा घोष को

Arvind Goswami

3. अरविन्द गोस्वामी को

Anita Desai

4. अनिता देसाई

Question Number : 11 Question Id : 1982361265 Question Type : MCQ Option Shuffling : Yes Display Question Number : Yes  
Single Line Question Option : No Option Orientation : Vertical Allowed Progression : Yes Number of Replay : 999 Play On Load :  
No Control Enable : Yes

Correct Marks : 3 Wrong Marks : 1

Question Label : Multiple Choice Question

The country which has been honoured by Bank Note of the Year Award, 2019 :

वह देश जिसे 'बैंक नोट ऑफ दी ईयर पुरस्कार, 2019 से सम्मानित किया गया :

Options :

Canada

1. कनाडा

New Zealand

2. न्यूजीलैण्ड

North-Ireland

3. नार्थ-आयरलैण्ड

Switzerland

4. स्विट्ज़रलैण्ड

Question Number : 12 Question Id : 1982361266 Question Type : MCQ Option Shuffling : Yes Display Question Number : Yes  
Single Line Question Option : No Option Orientation : Vertical Allowed Progression : Yes Number of Replay : 999 Play On Load :  
No Control Enable : Yes

Correct Marks : 3 Wrong Marks : 1

Question Label : Multiple Choice Question

The new Emperor of Japan is :

जापान के नये सम्राट है :

Options :

Naruhito

1. नारुहितो

Akishino

2. अकिशिनो

Hisahito

3. हिसाहितो

Akihito

4. अकिहितो

Question Number : 13 Question Id : 1982361267 Question Type : MCQ Option Shuffling : Yes Display Question Number : Yes  
Single Line Question Option : No Option Orientation : Vertical Allowed Progression : Yes Number of Replay : 999 Play On Load :  
No Control Enable : Yes

Correct Marks : 3 Wrong Marks : 1

Question Label : Multiple Choice Question

Who is the President of World Bank ?

विश्व बैंक के अध्यक्ष कौन हैं ?

Options :

David Malpass

1. डेविड मालपास

Jim Yong Kim

2. जिम याँग किम

Robert Zoellick

3. राबर्ट जोलिक

Paul Wolfowitz

4. पॉल वुल्फोविज़

Question Number : 14 Question Id : 1982361268 Question Type : MCQ Option Shuffling : Yes Display Question Number : Yes  
Single Line Question Option : No Option Orientation : Vertical Allowed Progression : Yes Number of Replay : 999 Play On Load :  
No Control Enable : Yes

Correct Marks : 3 Wrong Marks : 1

Question Label : Multiple Choice Question

A non-British cricketer who has been declared President of M. C. C. ?

एक गैर-ब्रिटिश क्रिकेट खिलाड़ी जिसे एम० सी० सी० का अध्यक्ष घोषित किया गया ?

Options :

Kumar Sangakkara

1. कुमार संगकारा

Shoaib Akhtar

2. शोएब अख्तर

Sachin Tendulkar

3. सचिन तेंदुलकर

V. V. S. Laxman

4. वी० वी० एस० लक्ष्मण

Question Number : 15 Question Id : 1982361269 Question Type : MCQ Option Shuffling : Yes Display Question Number : Yes  
Single Line Question Option : No Option Orientation : Vertical Allowed Progression : Yes Number of Replay : 999 Play On Load :  
No Control Enable : Yes

Correct Marks : 3 Wrong Marks : 1

Question Label : Multiple Choice Question

'Game Changer' is the memoir of :

'गेम चेंजर' संस्मरण है :

Options :

Shahid Afridi

1. शाहिद अफरीदी का

Wasim Akram

2. वसीम अकरम का

Sachin Tendulkar

3. सचिन तेंदुलकर का

Rahul Dravid

4. राहुल द्रविड़ का

Question Number : 16 Question Id : 1982361270 Question Type : MCQ Option Shuffling : Yes Display Question Number : Yes  
Single Line Question Option : No Option Orientation : Vertical Allowed Progression : Yes Number of Replay : 999 Play On Load :  
No Control Enable : Yes

Correct Marks : 3 Wrong Marks : 1

Question Label : Multiple Choice Question

For the first time, the President of India made a proclamation of emergency under Art. 352 of the Constitution in year :

भारत के राष्ट्रपति ने संविधान के अनुच्छेद 352 के अन्तर्गत सर्वप्रथम आपातकाल की घोषणा की थी वर्ष :

Options :

1962

1. 1962 में



- 1952  
2. 1952 में
- 1965  
3. 1965 में
- 1975  
4. 1975 में

Question Number : 17 Question Id : 1982361271 Question Type : MCQ Option Shuffling : Yes Display Question Number : Yes  
Single Line Question Option : No Option Orientation : Vertical Allowed Progression : Yes Number of Replay : 999 Play On Load :  
No Control Enable : Yes

Correct Marks : 3 Wrong Marks : 1

Question Label : Multiple Choice Question

The President of India can dismiss a member of the Council of Ministers :

मंत्रिपरिषद के किसी सदस्य को भारत के राष्ट्रपति द्वारा पदच्युत किया जा सकता है :

Options :

- at his discretion  
1. उसके विवेक के आधार पर
- on the recommendation of the Prime Minister  
2. प्रधानमंत्री की संस्तुति पर
- with the consent of the Speaker  
3. लोकसभा अध्यक्ष की सहमति से
- on the recommendation of the Vice-President  
4. उपराष्ट्रपति की संस्तुति पर

Question Number : 18 Question Id : 1982361272 Question Type : MCQ Option Shuffling : Yes Display Question Number : Yes  
Single Line Question Option : No Option Orientation : Vertical Allowed Progression : Yes Number of Replay : 999 Play On Load :  
No Control Enable : Yes

Correct Marks : 3 Wrong Marks : 1

Question Label : Multiple Choice Question

The Preamble of the Constitution of India was amended for the first time by :

भारत के संविधान की प्रस्तावना को सर्वप्रथम संशोधित किया गया :

Options :

- XLII Amendment Act  
1. बयालीसवें संशोधन अधिनियम द्वारा
- XI Amendment Act  
2. ग्यारहवें संशोधन अधिनियम द्वारा

## VII Amendment Act

3. सातवें संशोधन अधिनियम द्वारा

## XLIV Amendment Act

4. चौवालीसवें संशोधन अधिनियम द्वारा

Question Number : 19 Question Id : 1982361273 Question Type : MCQ Option Shuffling : Yes Display Question Number : Yes  
Single Line Question Option : No Option Orientation : Vertical Allowed Progression : Yes Number of Replay : 999 Play On Load :  
No Control Enable : Yes

Correct Marks : 3 Wrong Marks : 1

Question Label : Multiple Choice Question

'Ozar' is known for :

'ओज़र' जाना जाता है :

Options :

MIG Aircraft Factory

1. मिग विमान फैक्टरी के लिए

Cement Factory

2. सीमेंट फैक्टरी के लिए

Rafael Aircraft Factory

3. राफेल विमान फैक्टरी के लिए

Newsprint Factory

4. अखबारी कागज फैक्टरी के लिए

Question Number : 20 Question Id : 1982361274 Question Type : MCQ Option Shuffling : Yes Display Question Number : Yes  
Single Line Question Option : No Option Orientation : Vertical Allowed Progression : Yes Number of Replay : 999 Play On Load :  
No Control Enable : Yes

Correct Marks : 3 Wrong Marks : 1

Question Label : Multiple Choice Question

The first paper mill in India started in 1812. Where was it located ?

सन् 1812 में भारत का पहला कागज मिल शुरू हुआ। यह कहाँ अवस्थित था ?

Options :

Serampore, W. B.

1. श्रीरामपुर, पश्चिम बंगाल

Mumbai, Maharashtra

2. मुंबई, महाराष्ट्र

Yamunanagar, Haryana

3. यमुनानगर, हरियाणा

Nepanagar, M. P.

4. नेपालगर, म० प्र०

Question Number : 21 Question Id : 1982361275 Question Type : MCQ Option Shuffling : Yes Display Question Number : Yes  
Single Line Question Option : No Option Orientation : Vertical Allowed Progression : Yes Number of Replay : 999 Play On Load :  
No Control Enable : Yes

Correct Marks : 3 Wrong Marks : 1

Question Label : Multiple Choice Question

The phenomenon of 'October Heat' in the Indian subcontinent is due to :

भारतीय उपमहाद्वीप में 'अक्टूबर हीट' की घटना का कारण है :

Options :

High temperature and high humidity

1. उच्च तापमान और उच्च आर्द्रता

Very low velocity of wind

2. हवा का अत्यधिक कम वेग

Hot and dry weather

3. गर्म एवम् शुष्क मौसम

Low pressure in gangetic plains

4. गंगा के मैदानी क्षेत्र में निम्न दबाव

Question Number : 22 Question Id : 1982361276 Question Type : MCQ Option Shuffling : Yes Display Question Number : Yes  
Single Line Question Option : No Option Orientation : Vertical Allowed Progression : Yes Number of Replay : 999 Play On Load :  
No Control Enable : Yes

Correct Marks : 3 Wrong Marks : 1

Question Label : Multiple Choice Question

Which soil owes its colour due to oxides of iron ?

किस मिट्टी का रंग लौह-ऑक्साइडों के कारण होता है ?

Options :

Laterite

1. लेटराइट

Black

2. काली

Alluvial

3. कछार

Forest and Hill

4. जंगली एवम् पर्वतीय

Question Number : 23 Question Id : 1982361277 Question Type : MCQ Option Shuffling : Yes Display Question Number : Yes  
Single Line Question Option : No Option Orientation : Vertical Allowed Progression : Yes Number of Replay : 999 Play On Load :  
No Control Enable : Yes

Correct Marks : 3 Wrong Marks : 1

Question Label : Multiple Choice Question

Which State has the longest coast-line ?

किस राज्य का सबसे लम्बा समुद्र-तट है ?

Options :

1. Gujarat  
गुजरात का
2. Tamil Nadu  
तमिलनाडु का
3. Odisha  
ओडिशा का
4. Kerala  
केरल का

Question Number : 24 Question Id : 1982361278 Question Type : MCQ Option Shuffling : Yes Display Question Number : Yes  
Single Line Question Option : No Option Orientation : Vertical Allowed Progression : Yes Number of Replay : 999 Play On Load :  
No Control Enable : Yes

Correct Marks : 3 Wrong Marks : 1

Question Label : Multiple Choice Question

Which tributary of Ganga system flows northwards ?

गंगा-प्रणाली की कौन-सी सहायक उत्तर दिशा को बहती है ?

Options :

1. Sone  
सोन
2. Ghaghara  
घाघरा
3. Kosi  
कोसी
4. Gandak  
गंडक

Question Number : 25 Question Id : 1982361279 Question Type : MCQ Option Shuffling : Yes Display Question Number : Yes  
Single Line Question Option : No Option Orientation : Vertical Allowed Progression : Yes Number of Replay : 999 Play On Load :  
No Control Enable : Yes

Correct Marks : 3 Wrong Marks : 1

Question Label : Multiple Choice Question

The Nehru Report was finalized in year :

नेहरू रिपोर्ट को अंतिम रूप दिया गया, वर्ष :

Options :

1928

1. 1928 में

1909

2. 1909 में

1935

3. 1935 में

1947

4. 1947 में

Question Number : 26 Question Id : 1982361280 Question Type : MCQ Option Shuffling : Yes Display Question Number : Yes  
Single Line Question Option : No Option Orientation : Vertical Allowed Progression : Yes Number of Replay : 999 Play On Load :  
No Control Enable : Yes

Correct Marks : 3 Wrong Marks : 1

Question Label : Multiple Choice Question

Who has been referred to as 'Lokhitwadi' ?

'लोकहितवादी' के नाम से किसे उद्धृत किया जाता है ?

Options :

Gopal Hari Deshmukh

1. गोपाल हरि देशमुख को

Lala Lajpat Rai

2. लाला लाजपत राय को

Motilal Nehru

3. मोतीलाल नेहरू को

Bal Gangadhar Tilak

4. बाल गंगाधर तिलक को

Question Number : 27 Question Id : 1982361281 Question Type : MCQ Option Shuffling : Yes Display Question Number : Yes  
Single Line Question Option : No Option Orientation : Vertical Allowed Progression : Yes Number of Replay : 999 Play On Load :  
No Control Enable : Yes

Correct Marks : 3 Wrong Marks : 1

Question Label : Multiple Choice Question

Who attended all the three Round Table Conference ?

कौन सभी तीनों गोलमेज सम्मेलन में उपस्थित था ?

(A) Pt. Madan Mohan Malviya

प० मदन मोहन मालवीय

(B) Vallabhbhai Patel

वल्लभभाई पटेल

(C) B. R. Ambedkar

बी० आर० अम्बेडकर

(D) Tej Bahadur Sapru

तेज बहादुर सप्रु

Options :

C and D

1. C तथा D

B and C

2. B तथा C

A, B and C

3. A, B तथा C

A and B

4. A तथा B

Question Number : 28 Question Id : 1982361282 Question Type : MCQ Option Shuffling : Yes Display Question Number : Yes  
Single Line Question Option : No Option Orientation : Vertical Allowed Progression : Yes Number of Replay : 999 Play On Load :  
No Control Enable : Yes

Correct Marks : 3 Wrong Marks : 1

Question Label : Multiple Choice Question

When a ship enters a sea from a river :

जब जहाज नदी से समुद्र में प्रवेश करता है, तब :

Options :

the ship rises a little

1. जहाज थोड़ा ऊपर उठ जाता है

the ship sinks a little

2. जहाज थोड़ा नीचे डूब जाता है

the ship remains at the same level

3. जहाज उसी स्तर पर रहता है

the rise or sink depends on the material the ship is made of

4. जहाज का ऊपर उठना या डूबना इस पर निर्भर करता है कि जहाज किस पदार्थ का बना है

Question Number : 29 Question Id : 1982361283 Question Type : MCQ Option Shuffling : Yes Display Question Number : Yes  
Single Line Question Option : No Option Orientation : Vertical Allowed Progression : Yes Number of Replay : 999 Play On Load :  
No Control Enable : Yes

Correct Marks : 3 Wrong Marks : 1

Question Label : Multiple Choice Question

A device used for measuring the depth of sea is called :

समुद्र की गहराई नापने वाले यंत्र को कहते हैं :

Options :

Fathometer

1. फ़ैदोमीटर

Manometer

2. मैनोमीटर

Altimeter

3. अल्टीमीटर

Hydrometer

4. हाइड्रोमीटर

Question Number : 30 Question Id : 1982361284 Question Type : MCQ Option Shuffling : Yes Display Question Number : Yes  
Single Line Question Option : No Option Orientation : Vertical Allowed Progression : Yes Number of Replay : 999 Play On Load :  
No Control Enable : Yes

Correct Marks : 3 Wrong Marks : 1

Question Label : Multiple Choice Question

The 'Black Death' that killed about 60% of Europe's population was due to :

'ब्लैक डेथ', जिससे यूरोप की लगभग 60% जनसंख्या की मृत्यु हुई, का कारण था :

Options :

Plague

1. प्लेग

Small Pox

2. चेचक

Tuberculosis

3. तपेदिक

Pneumonia

4. निमोनिया

Section Number :	2
Section type :	Online
Mandatory or Optional:	Mandatory
Number of Questions:	30
Number of Questions to be attempted:	30
Section Marks:	90
Display Number Panel:	Yes
Group All Questions:	No

Sub-Section Number:	1
Sub-Section Id:	19823634
Question Shuffling Allowed :	Yes

Question Number : 31 Question Id : 1982361285 Question Type : MCQ Option Shuffling : Yes Display Question Number : Yes  
Single Line Question Option : No Option Orientation : Vertical Allowed Progression : Yes Number of Replay : 999 Play On Load :  
No Control Enable : Yes

Correct Marks : 3 Wrong Marks : 1

Question Label : Multiple Choice Question

The sum of two numbers is 9 and sum of their squares is 41. The numbers are :

दो संख्याओं का योग 9 है तथा उनके वर्ग का योग 41 है, तो संख्याएँ हैं :

Options :

- 4 and 5
- 4 तथा 5
- 1 and 8
- 1 तथा 8
- 3 and 6
- 3 तथा 6
- 2 and 7
- 2 तथा 7

Question Number : 32 Question Id : 1982361286 Question Type : MCQ Option Shuffling : Yes Display Question Number : Yes  
Single Line Question Option : No Option Orientation : Vertical Allowed Progression : Yes Number of Replay : 999 Play On Load :  
No Control Enable : Yes

Correct Marks : 3 Wrong Marks : 1

Question Label : Multiple Choice Question

If  $a = b^x$ ,  $b = c^y$ ,  $c = a^z$  then  $xyz$  is :

यदि  $a = b^x$ ,  $b = c^y$ ,  $c = a^z$  तो  $xyz$  का मान है :

Options :

- 1
- 0
- 1



4. *abc*

Question Number : 33 Question Id : 1982361287 Question Type : MCQ Option Shuffling : Yes Display Question Number : Yes  
Single Line Question Option : No Option Orientation : Vertical Allowed Progression : Yes Number of Replay : 999 Play On Load :  
No Control Enable : Yes

Correct Marks : 3 Wrong Marks : 1

Question Label : Multiple Choice Question

The length (in meters) of a rope, by which a cow must be tethered in order that it may graze over an area of 616 sq. m. is :

एक गाय को एक लम्बी रस्सी (मी० में) में इस प्रकार बाधा गया है कि वह 616 वर्ग मीटर क्षेत्रफल चारों तरफ घूमकर चर सकती है। रस्सी की लम्बाई होगी :

Options :

1. 14

2. 12

3. 16

4. 18

Question Number : 34 Question Id : 1982361288 Question Type : MCQ Option Shuffling : Yes Display Question Number : Yes  
Single Line Question Option : No Option Orientation : Vertical Allowed Progression : Yes Number of Replay : 999 Play On Load :  
No Control Enable : Yes

Correct Marks : 3 Wrong Marks : 1

Question Label : Multiple Choice Question

The shadow of a stick of height 1 meter when the angle of elevation of sun is  $60^\circ$ , will be :

एक मीटर ऊँचे छड़ी की छाया की लम्बाई, यदि सूर्य का उन्नयन कोण  $60^\circ$  है, होगी :

Options :

1.  $\frac{1}{\sqrt{3}}$  m (मी०)

2.  $\frac{1}{3}$  m (मी०)

3.  $\sqrt{3}$  m (मी०)

4. 3 m (मी०)

Question Number : 35 Question Id : 1982361289 Question Type : MCQ Option Shuffling : Yes Display Question Number : Yes  
Single Line Question Option : No Option Orientation : Vertical Allowed Progression : Yes Number of Replay : 999 Play On Load :  
No Control Enable : Yes

Correct Marks : 3 Wrong Marks : 1

Question Label : Multiple Choice Question

The number of diagonals of a polygon of  $n$  sides is :

$n$  भुजा वाले बहुभुज के विकर्णों की कुल संख्या होगी :

Options :

1.  $\frac{n(n-3)}{2}$

2.  $\frac{n(n+1)}{2}$

3.  $\frac{n(n-1)}{2}$

4.  $\frac{n(n+3)}{2}$

Question Number : 36 Question Id : 1982361290 Question Type : MCQ Option Shuffling : Yes Display Question Number : Yes  
Single Line Question Option : No Option Orientation : Vertical Allowed Progression : Yes Number of Replay : 999 Play On Load :  
No Control Enable : Yes

Correct Marks : 3 Wrong Marks : 1

Question Label : Multiple Choice Question

The value of  $(2^3 + 2^2 + 2^{-2} + 2^{-3}) = ?$

$(2^3 + 2^2 + 2^{-2} + 2^{-3}) = ?$  का मान है :

Options :

1.  $\frac{99}{8}$

2.  $\frac{99}{16}$

3.  $\frac{97}{8}$

4. 6

Question Number : 37 Question Id : 1982361291 Question Type : MCQ Option Shuffling : Yes Display Question Number : Yes  
Single Line Question Option : No Option Orientation : Vertical Allowed Progression : Yes Number of Replay : 999 Play On Load :  
No Control Enable : Yes

Correct Marks : 3 Wrong Marks : 1

Question Label : Multiple Choice Question

The greatest among  $(\sqrt{7} - \sqrt{5}), (\sqrt{5} - \sqrt{3}), (\sqrt{9} - \sqrt{7}), (\sqrt{11} - \sqrt{9})$  is :

$(\sqrt{7} - \sqrt{5}), (\sqrt{5} - \sqrt{3}), (\sqrt{9} - \sqrt{7}), (\sqrt{11} - \sqrt{9})$  में सबसे बड़ा है :

Options :

1.  $(\sqrt{5} - \sqrt{3})$

2.  $(\sqrt{9} - \sqrt{7})$

3.  $(\sqrt{7} - \sqrt{5})$

4.  $(\sqrt{11} - \sqrt{9})$

Question Number : 38 Question Id : 1982361292 Question Type : MCQ Option Shuffling : Yes Display Question Number : Yes  
Single Line Question Option : No Option Orientation : Vertical Allowed Progression : Yes Number of Replay : 999 Play On Load :  
No Control Enable : Yes

Correct Marks : 3 Wrong Marks : 1

Question Label : Multiple Choice Question

If  $1.125 \times 10^k = .001125$ , then  $k = ?$

यदि  $1.125 \times 10^k = .001125$ , तो  $k$  का मान होगा :

Options :

1.  $-3$

2.  $-4$

3.  $-2$

4.  $-1$

Question Number : 39 Question Id : 1982361293 Question Type : MCQ Option Shuffling : Yes Display Question Number : Yes  
Single Line Question Option : No Option Orientation : Vertical Allowed Progression : Yes Number of Replay : 999 Play On Load :  
No Control Enable : Yes

Correct Marks : 3 Wrong Marks : 1

Question Label : Multiple Choice Question

$8.15 \div 0.025 \times 0.033 = ?$

Options :

1. 10.758

2. 326

3. 9878.7878

4. None of the three  
(तीनों में से कोई नहीं)

Question Number : 40 Question Id : 1982361294 Question Type : MCQ Option Shuffling : Yes Display Question Number : Yes  
Single Line Question Option : No Option Orientation : Vertical Allowed Progression : Yes Number of Replay : 999 Play On Load :  
No Control Enable : Yes

Correct Marks : 3 Wrong Marks : 1

Question Label : Multiple Choice Question

If  $p = \frac{3}{5}$ ,  $q = \frac{7}{9}$  and  $r = \frac{5}{7}$ , then :

यदि  $p = \frac{3}{5}$ ,  $q = \frac{7}{9}$  तथा  $r = \frac{5}{7}$ , तो :

Options :

1.  $p < r < q$

2.  $q < r < p$

3.  $p < q < r$

4.  $r < q < p$

Question Number : 41 Question Id : 1982361295 Question Type : MCQ Option Shuffling : Yes Display Question Number : Yes  
Single Line Question Option : No Option Orientation : Vertical Allowed Progression : Yes Number of Replay : 999 Play On Load :  
No Control Enable : Yes

Correct Marks : 3 Wrong Marks : 1

Question Label : Multiple Choice Question

1 litre of water weighs 1 kg. How many cubic millimeters of water will weigh 0.1 gm ?

एक लीटर पानी का भार एक किलोग्राम है। कितने घन मिली मीटर पानी का भार 0.1 ग्राम होगा ?

Options :

1. 100

2. 1

3. 10

4. 0.1

Question Number : 42 Question Id : 1982361296 Question Type : MCQ Option Shuffling : Yes Display Question Number : Yes  
Single Line Question Option : No Option Orientation : Vertical Allowed Progression : Yes Number of Replay : 999 Play On Load :  
No Control Enable : Yes

Correct Marks : 3 Wrong Marks : 1

Question Label : Multiple Choice Question

In what ratio must water be mixed with milk to gain 10% by selling the mixture at cost price ?

किस अनुपात में पानी को दूध में मिलाया जाय कि मिश्रण को बेचने पर 10% का लाभ हो जबकि मिश्रण को क्रय मूल्य पर ही बेचा जाता है :

Options :

1. 1 : 10
2. 2 : 10
3. 1 : 5
4. 1 : 20

Question Number : 43 Question Id : 1982361297 Question Type : MCQ Option Shuffling : Yes Display Question Number : Yes  
Single Line Question Option : No Option Orientation : Vertical Allowed Progression : Yes Number of Replay : 999 Play On Load :  
No Control Enable : Yes

Correct Marks : 3 Wrong Marks : 1

Question Label : Multiple Choice Question

What is remainder when 789456123 is divided by 999 ?

यदि 789456123 को 999 से भाग दें तो शेषफल क्या है ?

Options :

1. 369
2. 389
3. 361
4. 316

Question Number : 44 Question Id : 1982361298 Question Type : MCQ Option Shuffling : Yes Display Question Number : Yes  
Single Line Question Option : No Option Orientation : Vertical Allowed Progression : Yes Number of Replay : 999 Play On Load :  
No Control Enable : Yes

Correct Marks : 3 Wrong Marks : 1

Question Label : Multiple Choice Question

The value of  $\sqrt[6]{192}$  is :

$\sqrt[6]{192}$  का मान है :

Options :

1.  $2\sqrt[6]{3}$
2.  $4\sqrt[6]{3}$
3.  $8\sqrt[6]{3}$
4.  $6\sqrt[6]{3}$

Question Number : 45 Question Id : 1982361299 Question Type : MCQ Option Shuffling : Yes Display Question Number : Yes  
Single Line Question Option : No Option Orientation : Vertical Allowed Progression : Yes Number of Replay : 999 Play On Load :  
No Control Enable : Yes

Correct Marks : 3 Wrong Marks : 1

Question Label : Multiple Choice Question

Factors of the polynomial  $2x^2 - 12x + 18$  is :

बहुपद  $2x^2 - 12x + 18$  का गुणनखण्ड है :

Options :

1.  $2(x-3)^2$

2.  $2(x^2-3)$

3.  $2(x^2+3)$

4.  $2(x^2-9)$

Question Number : 46 Question Id : 1982361300 Question Type : MCQ Option Shuffling : Yes Display Question Number : Yes  
Single Line Question Option : No Option Orientation : Vertical Allowed Progression : Yes Number of Replay : 999 Play On Load :  
No Control Enable : Yes

Correct Marks : 3 Wrong Marks : 1

Question Label : Multiple Choice Question

A number whose fifth part increased by 5 is equal to its fourth part diminished by 5. The number is :

एक संख्या के पाँचवें भाग में 5 बढ़ा दिया जाय तो यह संख्या अपने चौथे भाग में 5 कम कर देने के बराबर हो जाती है। संख्या का मान है :

Options :

1. 200

2. 160

3. 180

4. 100

Question Number : 47 Question Id : 1982361301 Question Type : MCQ Option Shuffling : Yes Display Question Number : Yes  
Single Line Question Option : No Option Orientation : Vertical Allowed Progression : Yes Number of Replay : 999 Play On Load :  
No Control Enable : Yes

Correct Marks : 3 Wrong Marks : 1

Question Label : Multiple Choice Question

A man went to the market at the speed of 4 km/hr and returned at 3 km/hr. If he took 30 minutes more in returning, the distance of the market from his home is :

एक व्यक्ति 4 कि०मी०/घंटा की चाल से बाजार जाता है तथा 3 कि०मी०/घंटा की चाल से वापस आता है। यदि वापस आने में 30 मिनट अधिक समय लगता है, तो उसके घर से बाजार की दूरी है :

Options :

1. 6 km  
6 कि०मी०
2. 8 km  
8 कि०मी०
3. 10 km  
10 कि०मी०
4. 12 km  
12 कि०मी०

Question Number : 48 Question Id : 1982361302 Question Type : MCQ Option Shuffling : Yes Display Question Number : Yes  
Single Line Question Option : No Option Orientation : Vertical Allowed Progression : Yes Number of Replay : 999 Play On Load :  
No Control Enable : Yes

Correct Marks : 3 Wrong Marks : 1

Question Label : Multiple Choice Question

There are benches in the classroom. If 4 students sit on each bench three benches are left vacant and if 3 students sit on each bench 3 students are left standing. Total number of students in the class is :

अध्ययन कक्ष में कुछ बेंच हैं। यदि 4 विद्यार्थी प्रत्येक बेंच पर बैठते हैं तो 3 बेंच खाली रह जाते हैं और यदि 3 विद्यार्थी प्रत्येक बेंच पर बैठें तो 3 विद्यार्थी खड़े रह जाते हैं। विद्यार्थियों की कुल संख्या अध्ययन कक्ष में कितनी है ?

Options :

1. 48
2. 50
3. 60
4. 64

Question Number : 49 Question Id : 1982361303 Question Type : MCQ Option Shuffling : Yes Display Question Number : Yes  
Single Line Question Option : No Option Orientation : Vertical Allowed Progression : Yes Number of Replay : 999 Play On Load :  
No Control Enable : Yes

Correct Marks : 3 Wrong Marks : 1

Question Label : Multiple Choice Question

A's age is six times B's age. 15 years hence, A will be three times as old as B. The age of B is :

A की आयु B के आयु की 6 गुनी है। 15 वर्षों बाद A की आयु B के आयु की 3 गुनी हो जायेगी। B की वर्तमान आयु है :

Options :

1. 10 years  
10 वर्ष

12 years

2. 12 वर्ष

8 years

3. 8 वर्ष

16 years

4. 16 वर्ष

**Question Number : 50 Question Id : 1982361304 Question Type : MCQ Option Shuffling : Yes Display Question Number : Yes Single Line Question Option : No Option Orientation : Vertical Allowed Progression : Yes Number of Replay : 999 Play On Load : No Control Enable : Yes**

**Correct Marks : 3 Wrong Marks : 1**

Question Label : Multiple Choice Question

In an examination, A secured 360 marks, his percentage of marks is 45%. His friend B secured 436 marks in the same examination. The percentage of marks of B in the examination is :

किसी परीक्षा में A, 360 अंक प्राप्त करता है तथा उसका प्राप्तांक प्रतिशत 45% हैं। उसी परीक्षा में B, 436 अंक प्राप्त करता है। उस परीक्षा में B का प्राप्तांक प्रतिशत है :

**Options :**

1. 54.5%

2. 50%

3. 60%

4. 55%

**Question Number : 51 Question Id : 1982361305 Question Type : MCQ Option Shuffling : Yes Display Question Number : Yes Single Line Question Option : No Option Orientation : Vertical Allowed Progression : Yes Number of Replay : 999 Play On Load : No Control Enable : Yes**

**Correct Marks : 3 Wrong Marks : 1**

Question Label : Multiple Choice Question

Find the compound interest on Rs. 24,000 compounded annually for 2 years at the rate of 10% per annum :

24,000 रु० का 10% वार्षिक चक्रवृद्धि ब्याज की दर से 2 वर्ष में चक्रवृद्धि ब्याज ज्ञात कीजिए, जबकि ब्याज प्रतिवर्ष संयोजित होता है ?

**Options :**

Rs. 5,040

1. 5,040 रु०

Rs. 5,000

2. 5,000 रु०



Rs. 5,100

3. 5,100 रु०

Rs. 5,160

4. 5,160 रु०

Question Number : 52 Question Id : 1982361306 Question Type : MCQ Option Shuffling : Yes Display Question Number : Yes  
Single Line Question Option : No Option Orientation : Vertical Allowed Progression : Yes Number of Replay : 999 Play On Load :  
No Control Enable : Yes

Correct Marks : 3 Wrong Marks : 1

Question Label : Multiple Choice Question

The base of an isosceles triangle is 80 cm and its area is  $360 \text{ cm}^2$ . The perimeter of the triangle is :

80 से०मी० आधार वाले एक समद्विबाहु त्रिभुज का क्षेत्रफल 360 वर्ग से०मी० है। उस त्रिभुज का परिमाप है :

Options :

162 cm

1. 162 से०मी०

160 cm

2. 160 से०मी०

170 cm

3. 170 से०मी०

176 cm

4. 176 से०मी०

Question Number : 53 Question Id : 1982361307 Question Type : MCQ Option Shuffling : Yes Display Question Number : Yes  
Single Line Question Option : No Option Orientation : Vertical Allowed Progression : Yes Number of Replay : 999 Play On Load :  
No Control Enable : Yes

Correct Marks : 3 Wrong Marks : 1

Question Label : Multiple Choice Question

The circumference of circular plate is 132 cm. The area of circular plate is :

$$\left( \pi = \frac{22}{7} \right)$$

एक वृत्ताकार प्लेट की परिधि 132 से०मी० है। इस वृत्ताकार प्लेट का क्षेत्रफल है :

$$\left( \pi = \frac{22}{7} \right)$$

Options :

1386  $\text{cm}^2$

1. 1386 वर्ग से०मी०

2.  $1280 \text{ cm}^2$   
1280 वर्ग से०मी०

3.  $1360 \text{ cm}^2$   
1360 वर्ग से०मी०

4.  $1276 \text{ cm}^2$   
1276 वर्ग से०मी०

Question Number : 54 Question Id : 1982361308 Question Type : MCQ Option Shuffling : Yes Display Question Number : Yes  
Single Line Question Option : No Option Orientation : Vertical Allowed Progression : Yes Number of Replay : 999 Play On Load :  
No Control Enable : Yes

Correct Marks : 3 Wrong Marks : 1

Question Label : Multiple Choice Question

The volume of the cube is  $1728 \text{ cm}^3$ . The surface area of the cube is :

एक घन का आयतन  $1728 \text{ से०मी०}^3$  है। इस घन का पृष्ठीय क्षेत्रफल है :

Options :

1.  $864 \text{ cm}^2$   
864 वर्ग से०मी०

2.  $860 \text{ cm}^2$   
860 वर्ग से०मी०

3.  $760 \text{ cm}^2$   
760 वर्ग से०मी०

4.  $876 \text{ cm}^2$   
876 वर्ग से०मी०

Question Number : 55 Question Id : 1982361309 Question Type : MCQ Option Shuffling : Yes Display Question Number : Yes  
Single Line Question Option : No Option Orientation : Vertical Allowed Progression : Yes Number of Replay : 999 Play On Load :  
No Control Enable : Yes

Correct Marks : 3 Wrong Marks : 1

Question Label : Multiple Choice Question

A box contains 20 bulbs, 5 of which are defective. One bulb is drawn at random. The probability of not-defective bulb is :

एक बॉक्स में 20 बल्ब रखे गये हैं जिनमें 5 बल्ब खराब हैं। यदि एक बल्ब यादृच्छ रूप से निकाला जाय। बल्ब खराब नहीं होने की प्रायिकता है :

Options :

1.  $\frac{3}{4}$

2.  $\frac{1}{5}$

3.  $\frac{4}{5}$

4.  $\frac{1}{4}$

Question Number : 56 Question Id : 1982361310 Question Type : MCQ Option Shuffling : Yes Display Question Number : Yes  
Single Line Question Option : No Option Orientation : Vertical Allowed Progression : Yes Number of Replay : 999 Play On Load :  
No Control Enable : Yes

Correct Marks : 3 Wrong Marks : 1

Question Label : Multiple Choice Question

The mean of 6 numbers is 20. If one number is excluded, their mean is 22. The excluded number is :

6 संख्याओं का माध्य 20 है। यदि एक संख्या इसमें से निकाल दी जाय तो उनका माध्य 22 हो जाता है। निकाली गयी संख्या है :

Options :

1. 10

2. 12

3. 11

4. 21

Question Number : 57 Question Id : 1982361311 Question Type : MCQ Option Shuffling : Yes Display Question Number : Yes  
Single Line Question Option : No Option Orientation : Vertical Allowed Progression : Yes Number of Replay : 999 Play On Load :  
No Control Enable : Yes

Correct Marks : 3 Wrong Marks : 1

Question Label : Multiple Choice Question

If twice the greater number divided by smaller number the quotient is 3 and the remainder is 5 and if four times the smaller divided by greater, the quotient is 2 and the remainder is 20. The smaller number is :

यदि बड़ी संख्या के दो गुने को छोटी संख्या से विभाजित किया जाय तो भागफल 3 तथा शेष 5 बचता है और यदि छोटी संख्या के 4 गुने को बड़ी संख्या से विभाजित किया जाय तो भागफल 2 तथा शेष 20 बचता है। छोटी संख्या का मान है :

Options :

1. 25

2. 30

3. 35

4. 36

Question Number : 58 Question Id : 1982361312 Question Type : MCQ Option Shuffling : Yes Display Question Number : Yes  
Single Line Question Option : No Option Orientation : Vertical Allowed Progression : Yes Number of Replay : 999 Play On Load :  
No Control Enable : Yes

Correct Marks : 3 Wrong Marks : 1

Question Label : Multiple Choice Question

4 men and 6 women finish a job in 8 days, while 3 men and 7 women finish it in 10 days. How many days will 10 women working together finish it ?

4 आदमी और 6 औरतें किसी काम को 8 दिन में पूरा करते हैं, जबकि 3 आदमी और 7 औरतें उसी काम को 10 दिन में पूरा करते हैं। 10 औरतें मिलकर उसी काम को कितने दिनों में पूरा करेंगी ?

Options :

40 days

1. 40 दिन

35 days

2. 35 दिन

30 days

3. 30 दिन

20 days

4. 20 दिन

Question Number : 59 Question Id : 1982361313 Question Type : MCQ Option Shuffling : Yes Display Question Number : Yes  
Single Line Question Option : No Option Orientation : Vertical Allowed Progression : Yes Number of Replay : 999 Play On Load :  
No Control Enable : Yes

Correct Marks : 3 Wrong Marks : 1

Question Label : Multiple Choice Question

If a number decreased by 20 is equal to 69 times the reciprocal of the number, then number is :

यदि किसी संख्या में 20 कम कर दिया जाय तो वह संख्या अपने व्युत्क्रम के 69 गुने के बराबर हो जाती है। संख्या का मान है :

Options :

1. 23

2. 24

3. 25

Question Number : 60 Question Id : 1982361314 Question Type : MCQ Option Shuffling : Yes Display Question Number : Yes  
Single Line Question Option : No Option Orientation : Vertical Allowed Progression : Yes Number of Replay : 999 Play On Load :  
No Control Enable : Yes

Correct Marks : 3 Wrong Marks : 1

Question Label : Multiple Choice Question

A passenger train takes 3 hours less for a journey of 360 km if its speed is increased by 10 km/hr. The original speed of the train is :

एक यात्री गाड़ी को 360 कि०मी० की यात्रा करने में 3 घंटे कम समय लगता, यदि वह अपनी चाल 10 कि०मी०/घंटा बढ़ा दे। यात्री गाड़ी की मूल चाल है :

Options :

- 30 km/hr
1. 30 कि०मी०/घंटा
- 35 km/hr
2. 35 कि०मी०/घंटा
- 40 km/hr
3. 40 कि०मी०/घंटा
- 32 km/hr
4. 32 कि०मी०/घंटा

#### Sec III Data & Reasoning

Section Id :	19823630
Section Number :	3
Section type :	Online
Mandatory or Optional:	Mandatory
Number of Questions:	20
Number of Questions to be attempted:	20
Section Marks:	90
Display Number Panel:	Yes
Group All Questions:	No

Sub-Section Number:	1
Sub-Section Id:	19823635
Question Shuffling Allowed :	Yes

Question Id : 1982361315 Question Type : COMPREHENSION Sub Question Shuffling Allowed : Yes Group Comprehension  
Questions : No Allowed Progression : Yes Number of Replay : 999 Play On Load : No Control Enable : Yes

Question Numbers : (61 to 64)

Question Label : Comprehension

From following frequency table of marks of students answer the question

छात्रों के अंकों के निम्न बारम्बारता बंटन से प्रश्न का उत्तर दीजिए :

Marks अंक	Frequency बारम्बारता
0-10	10
10-20	15
20-30	35
30-40	25
40-50	15

#### Sub questions

Question Number : 61 Question Id : 1982361316 Question Type : MCQ Option Shuffling : Yes Display Question Number : Yes  
Single Line Question Option : No Option Orientation : Vertical Allowed Progression : Yes Number of Replay : 999 Play On Load :  
No Control Enable : Yes

Correct Marks : 3 Wrong Marks : 1

Question Label : Multiple Choice Question

The percentage of student getting marks less than 30 is :

30 से कम अंक पाने वाले छात्रों का प्रतिशत है :

Options :

1. 60

2. 40

3. 30

4. 85

Question Number : 62 Question Id : 1982361317 Question Type : MCQ Option Shuffling : Yes Display Question Number : Yes  
Single Line Question Option : No Option Orientation : Vertical Allowed Progression : Yes Number of Replay : 999 Play On Load :  
No Control Enable : Yes

Correct Marks : 3 Wrong Marks : 1

Question Label : Multiple Choice Question

The percentage of students getting marks 10 or more but less than 40 is :

10 या इससे अधिक और 40 से कम अंक पाने वाले छात्रों का प्रतिशत है :

Options :

1. 75

2. 85

3. 45

4. 55

Question Number : 63 Question Id : 1982361318 Question Type : MCQ Option Shuffling : Yes Display Question Number : Yes  
Single Line Question Option : No Option Orientation : Vertical Allowed Progression : Yes Number of Replay : 999 Play On Load :  
No Control Enable : Yes

Correct Marks : 3 Wrong Marks : 1

Question Label : Multiple Choice Question

The approximate value of mode of marks is :

अंकों के बहुलक का नजदीकी मान है :

Options :

1. 25
2. 10
3. 35
4. 20

Question Number : 64 Question Id : 1982361319 Question Type : MCQ Option Shuffling : Yes Display Question Number : Yes  
Single Line Question Option : No Option Orientation : Vertical Allowed Progression : Yes Number of Replay : 999 Play On Load :  
No Control Enable : Yes

Correct Marks : 3 Wrong Marks : 1

Question Label : Multiple Choice Question

If passing marks is 20 then what is ratio of pass to fail :

यदि उत्तीर्ण होने का अंक 20 हो, तो उत्तीर्ण के सापेक्ष अनुत्तीर्ण का अनुपात है :

Options :

1. 3 : 1
2. 1 : 3
3. 2 : 3
4. 3 : 2

Sub-Section Number:	2
Sub-Section Id:	19823636
Question Shuffling Allowed :	Yes

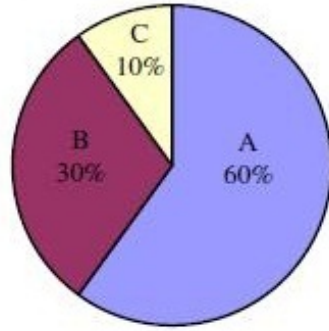
Question Id : 1982361320 Question Type : COMPREHENSION Sub Question Shuffling Allowed : Yes Group Comprehension  
Questions : No Allowed Progression : Yes Number of Replay : 999 Play On Load : No Control Enable : Yes

Question Numbers : (65 to 68)

Question Label : Comprehension

The following figure shows the share of 20,000 votes polled to *three* parties A, B and C.

निम्नलिखित चित्र तीन दलों A, B तथा C को प्राप्त 20,000 मतों हिस्सेदारी दिखाते है।



#### Sub questions

Question Number : 65 Question Id : 1982361321 Question Type : MCQ Option Shuffling : Yes Display Question Number : Yes Single Line Question Option : No Option Orientation : Vertical Allowed Progression : Yes Number of Replay : 999 Play On Load : No Control Enable : Yes

Correct Marks : 3 Wrong Marks : 1

Question Label : Multiple Choice Question

The votes obtained by parties A, B & C are respectively.

दलों A, B तथा C को मिले मतों की संख्या क्रमशः है :

Options :

1. 12,000, 6,000 & 2,000
2. 10,000, 6,000 & 4,000
3. 14,000, 4,000 & 2,000
4. 11,000, 5,500 & 3,500

Question Number : 66 Question Id : 1982361322 Question Type : MCQ Option Shuffling : Yes Display Question Number : Yes Single Line Question Option : No Option Orientation : Vertical Allowed Progression : Yes Number of Replay : 999 Play On Load : No Control Enable : Yes

Correct Marks : 3 Wrong Marks : 1

Question Label : Multiple Choice Question

How much more votes party A obtained with the total votes of party B & C ?

दल B और C को प्राप्त कुल मतों से दल A के मत कितने अधिक थे ?

Options :

1. 4,000
2. 1,000
3. 8,000
4. 2,000



Question Number : 67 Question Id : 1982361323 Question Type : MCQ Option Shuffling : Yes Display Question Number : Yes  
Single Line Question Option : No Option Orientation : Vertical Allowed Progression : Yes Number of Replay : 999 Play On Load :  
No Control Enable : Yes

Correct Marks : 3 Wrong Marks : 1

Question Label : Multiple Choice Question

As compared to party C what was percentage of excess vote obtained by party B ?

दल C की तुलना में दल B ने कितने प्रतिशत अधिक मत प्राप्त किया ?

Options :

1. 67
2. 20
3. 40
4. 76

Question Number : 68 Question Id : 1982361324 Question Type : MCQ Option Shuffling : Yes Display Question Number : Yes  
Single Line Question Option : No Option Orientation : Vertical Allowed Progression : Yes Number of Replay : 999 Play On Load :  
No Control Enable : Yes

Correct Marks : 3 Wrong Marks : 1

Question Label : Multiple Choice Question

If 3,000 women casted vote to party A then the percentage of male voted to party A is :

यदि कुल 3,000 महिलाओं ने दल A को मत दिया तो दल A को मत देने वाले पुरुषों का प्रतिशत है :

Options :

1. 75
2. 15
3. 25
4. 35

Sub-Section Number: 3  
Sub-Section Id: 19823637  
Question Shuffling Allowed : Yes

Question Number : 69 Question Id : 1982361325 Question Type : MCQ Option Shuffling : Yes Display Question Number : Yes  
Single Line Question Option : No Option Orientation : Vertical Allowed Progression : Yes Number of Replay : 999 Play On Load :  
No Control Enable : Yes

Correct Marks : 3 Wrong Marks : 1

Question Label : Multiple Choice Question

Find the appropriate value of term '?' in following series ?

निम्न श्रेणी में पद '?' का उचित मान प्राप्त करें ?

$$\frac{1}{2}, \frac{1}{4}, \frac{1}{8}, ?, \frac{1}{32}$$

Options :

1.  $\frac{1}{16}$

2.  $\frac{1}{12}$

3.  $\frac{1}{14}$

4.  $\frac{1}{18}$

Question Number : 70 Question Id : 1982361326 Question Type : MCQ Option Shuffling : Yes Display Question Number : Yes  
Single Line Question Option : No Option Orientation : Vertical Allowed Progression : Yes Number of Replay : 999 Play On Load :  
No Control Enable : Yes

Correct Marks : 3 Wrong Marks : 1

Question Label : Multiple Choice Question

The letter having maximum frequency in the word 'STATISTICS' is :

शब्द 'STATISTICS' में अधिकतम बारम्बारता वाला अक्षर है :

Options :

1. T

2. A

3. I

4. C

Question Number : 71 Question Id : 1982361327 Question Type : MCQ Option Shuffling : Yes Display Question Number : Yes  
Single Line Question Option : No Option Orientation : Vertical Allowed Progression : Yes Number of Replay : 999 Play On Load :  
No Control Enable : Yes

Correct Marks : 3 Wrong Marks : 1

Question Label : Multiple Choice Question

Choose the *correct* alternative for '?' on the basis of relationship given below :

Mango : Fruit :: Potato : ?

निम्नलिखित संबंध के आधार पर '?' के लिए **सही** विकल्प को चुने :

आम : फल :: आलू : ?

Options :

Vegetable

1. सब्जी

Fruit

2. फल

Flower

3. फूल

Stem

4. तना

Question Number : 72 Question Id : 1982361328 Question Type : MCQ Option Shuffling : Yes Display Question Number : Yes  
Single Line Question Option : No Option Orientation : Vertical Allowed Progression : Yes Number of Replay : 999 Play On Load :  
No Control Enable : Yes

Correct Marks : 3 Wrong Marks : 1

Question Label : Multiple Choice Question

Choose the *correct* alternative for '?' on the basis of relationship given below :

Chanakya : Politician :: Kalidasa : ?

निम्नलिखित संबंध के आधार पर '?' के लिए **सही** विकल्प को चुने :

चाणक्य : राजनैतिक :: कालिदास : ?

Options :

Dramatist

1. नाटककार

Literature

2. साहित्य

Sanskrit

3. संस्कृत

English

4. अंग्रेजी

Question Number : 73 Question Id : 1982361329 Question Type : MCQ Option Shuffling : Yes Display Question Number : Yes  
Single Line Question Option : No Option Orientation : Vertical Allowed Progression : Yes Number of Replay : 999 Play On Load :  
No Control Enable : Yes

Correct Marks : 3 Wrong Marks : 1

Question Label : Multiple Choice Question

Fill in the blank by choosing *correct* alternative as given below :

Taj Mahal is related to love in the same way as Jalliaiwala Bagh is related to ——— ?

निम्नलिखित से **सही** विकल्प चुनकर खाली स्थान भरें :

ताजमहल का प्रेम से उसी प्रकार का संबंध है जिस प्रकार जलियाँवाला बाग का संबंध ——— से है

Options :

Martyrdom

1. शहादत

Anritsar

2. अमृतसर

War

3. युद्ध

East-India Company

4. ईस्ट-इंडिया कम्पनी

Question Number : 74 Question Id : 1982361330 Question Type : MCQ Option Shuffling : Yes Display Question Number : Yes  
Single Line Question Option : No Option Orientation : Vertical Allowed Progression : Yes Number of Replay : 999 Play On Load :  
No Control Enable : Yes

Correct Marks : 3 Wrong Marks : 1

Question Label : Multiple Choice Question

Choose the alternative which is different from others in the group ?

निम्नलिखित से उस विकल्प को चुनिये जो समूह में सबसे अलग है :

Options :

1. 4

2. 7

3. 13

4. 19

Question Number : 75 Question Id : 1982361331 Question Type : MCQ Option Shuffling : Yes Display Question Number : Yes  
Single Line Question Option : No Option Orientation : Vertical Allowed Progression : Yes Number of Replay : 999 Play On Load :  
No Control Enable : Yes

Correct Marks : 3 Wrong Marks : 1

Question Label : Multiple Choice Question

Which of the following alternative has a number *not* divisible by 3 ?

निम्न में कौन-सा विकल्प 3 से भाज्य **नहीं** है ?

Options :

1. 2011

2. 2001
3. 2019
4. 2013

Question Number : 76 Question Id : 1982361332 Question Type : MCQ Option Shuffling : Yes Display Question Number : Yes  
Single Line Question Option : No Option Orientation : Vertical Allowed Progression : Yes Number of Replay : 999 Play On Load :  
No Control Enable : Yes

Correct Marks : 3 Wrong Marks : 1

Question Label : Multiple Choice Question

In certain code language, '481' means 'sky is blue', '246' means 'sea is deep' and '698' means 'sea was blue'. The code for 'blue' and 'is', respectively, are :

किसी निश्चित कूट भाषा में '481' का अर्थ है 'आसमान नीला है', '246' का अर्थ है 'समुद्र गहरा है' और '698' का अर्थ है 'समुद्र नीला था'। 'नीला' और 'है' के लिए, क्रमशः, कूट है :

Options :

1. 8 & 4
2. 4 & 8
3. 4 & 1
4. 1 & 4

Question Number : 77 Question Id : 1982361333 Question Type : MCQ Option Shuffling : Yes Display Question Number : Yes  
Single Line Question Option : No Option Orientation : Vertical Allowed Progression : Yes Number of Replay : 999 Play On Load :  
No Control Enable : Yes

Correct Marks : 3 Wrong Marks : 1

Question Label : Multiple Choice Question

Let 'A + B' means 'A is the daughter of B';

'A × B' means 'A is son of B';

'A - B' means 'A is wife of B';

Then  $P \times Q - S$ , means :

यदि 'A + B' का अर्थ है 'A, B की पुत्री है;

'A × B' का अर्थ है 'A, B का पुत्र है;

'A - B' का अर्थ है 'A, B की पत्नी है;

तब  $P \times Q - S$ , का अर्थ है :

Options :

1. S is father of P
1. P का पिता S है

- S is wife of Q
2. Q की पत्नी S है
- Q is father of P
3. P का पिता Q है
- P is daughter of Q
4. Q की बेटी P है

Question Number : 78 Question Id : 1982361334 Question Type : MCQ Option Shuffling : Yes Display Question Number : Yes  
Single Line Question Option : No Option Orientation : Vertical Allowed Progression : Yes Number of Replay : 999 Play On Load :  
No Control Enable : Yes

Correct Marks : 3 Wrong Marks : 1

Question Label : Multiple Choice Question

If  $20-10$  means 200,  $8 \div 4$  means 12,  $6 \times 2$  means 4, then :

यदि  $20-10$  का अर्थ 200,  $8 \div 4$  का अर्थ 12,  $6 \times 2$  अर्थ 4 तो :

$$100 - 10 \times 1000 \div 1000 \times 10 = ?$$

Options :

1. 990
2. 0
3. 1000
4. 1010

Question Number : 79 Question Id : 1982361335 Question Type : MCQ Option Shuffling : Yes Display Question Number : Yes  
Single Line Question Option : No Option Orientation : Vertical Allowed Progression : Yes Number of Replay : 999 Play On Load :  
No Control Enable : Yes

Correct Marks : 3 Wrong Marks : 1

Question Label : Multiple Choice Question

The meaningful logical order of family, community, member, country is :

परिवार, समुदाय, सदस्य, देश का अर्थपूर्ण तार्किक क्रम है :

Options :

- member, family, community, country
1. सदस्य, परिवार, समुदाय, देश
- family, member community, country
2. परिवार, सदस्य, समुदाय, देश
- family, community, member, country
3. परिवार, समुदाय, सदस्य, देश

country, member, community, family

4. देश, सदस्य, समुदाय, परिवार

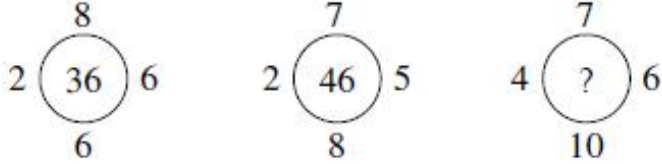
Question Number : 80 Question Id : 1982361336 Question Type : MCQ Option Shuffling : Yes Display Question Number : Yes  
Single Line Question Option : No Option Orientation : Vertical Allowed Progression : Yes Number of Replay : 999 Play On Load :  
No Control Enable : Yes

Correct Marks : 3 Wrong Marks : 1

Question Label : Multiple Choice Question

Find the missing number from among the given alternatives :

दिये गए विकल्पों से अज्ञात राशि को ज्ञात करें :



Options :

1. 46
2. 56
3. 76
4. 86

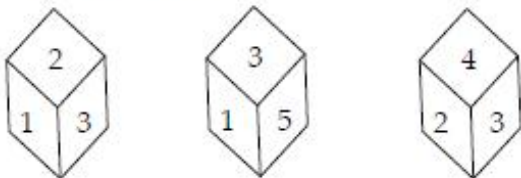
Question Number : 81 Question Id : 1982361337 Question Type : MCQ Option Shuffling : Yes Display Question Number : Yes  
Single Line Question Option : No Option Orientation : Vertical Allowed Progression : Yes Number of Replay : 999 Play On Load :  
No Control Enable : Yes

Correct Marks : 3 Wrong Marks : 1

Question Label : Multiple Choice Question

A die is thrown three times and its three different positions are given below. Find the number on the face opposite the face showing 3 :

एक पासा तीन बार फेंका जाता है और इसके तीन अलग-अलग परिस्थितियाँ निम्नवत हैं। 3 दिखाने वाले पृष्ठ के विपरीत पृष्ठ का अंक ज्ञात कीजिए।



Options :

1. 6
2. 1
3. 1
4. 5

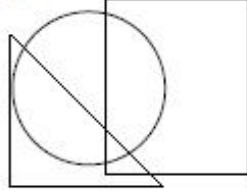
Question Number : 82 Question Id : 1982361338 Question Type : MCQ Option Shuffling : Yes Display Question Number : Yes  
Single Line Question Option : No Option Orientation : Vertical Allowed Progression : Yes Number of Replay : 999 Play On Load :  
No Control Enable : Yes

Correct Marks : 3 Wrong Marks : 1

Question Label : Multiple Choice Question

The number of right angles in following figure is :

निम्न चित्र में सम कोणों की संख्या है :



Options :

1. 5
2. 4
3. 6
4. 7

Question Number : 83 Question Id : 1982361339 Question Type : MCQ Option Shuffling : Yes Display Question Number : Yes  
Single Line Question Option : No Option Orientation : Vertical Allowed Progression : Yes Number of Replay : 999 Play On Load :  
No Control Enable : Yes

Correct Marks : 3 Wrong Marks : 1

Question Label : Multiple Choice Question

Which of the following letter is *not* symmetrical ?

निम्न में से कौन-सा वर्ण सममित *नहीं* है ?

Options :

1. J
2. A
3. W
4. B

Sub-Section Number: 4  
Sub-Section Id: 19823638  
Question Shuffling Allowed : Yes

Question Id : 1982361340 Question Type : COMPREHENSION Sub Question Shuffling Allowed : Yes Group Comprehension  
Questions : No Allowed Progression : Yes Number of Replay : 999 Play On Load : No Control Enable : Yes

Question Numbers : (84 to 86)

Question Label : Comprehension



The result of an examination in which 1000 students failed, is given below.

- (i) 658 failed in Physics.
  - (ii) 166 failed in Physics and Chemistry.
  - (iii) 372 failed in Chemistry, 434 failed in Physics and Mathematics.
  - (iv) 590 failed in Mathematics, 126 failed in Mathematics and Chemistry.
- एक परीक्षा के 1000 अनुत्तीर्ण छात्रों का परिणाम निम्नवत है।

एक परीक्षा का परिणाम नीचे दिया गया है। 1000 छात्रों जो कि सम्मिलित हुए उनमें :

- (i) 658 फिजिक्स में अनुत्तीर्ण हो गए।
- (ii) 166 फिजिक्स और केमिस्ट्री में अनुत्तीर्ण हो गए।
- (iii) 372 केमिस्ट्री में अनुत्तीर्ण हो गए, 434 फिजिक्स और गणित में अनुत्तीर्ण हो गए।
- (iv) 590 गणित में अनुत्तीर्ण हो गए, 126 गणित और केमिस्ट्री में अनुत्तीर्ण हो गए।

#### Sub questions

Question Number : 84 Question Id : 1982361341 Question Type : MCQ Option Shuffling : Yes Display Question Number : Yes  
Single Line Question Option : No Option Orientation : Vertical Allowed Progression : Yes Number of Replay : 999 Play On Load :  
No Control Enable : Yes

Correct Marks : 3 Wrong Marks : 1

Question Label : Multiple Choice Question

The number of students who failed in Mathematics but not Chemistry is :  
छात्रों की संख्या, जो गणित में अनुत्तीर्ण हो लेकिन केमिस्ट्री में न हो, है :

Options :

- 1. 464
- 2. 392
- 3. 387
- 4. 472

Question Number : 85 Question Id : 1982361342 Question Type : MCQ Option Shuffling : Yes Display Question Number : Yes  
Single Line Question Option : No Option Orientation : Vertical Allowed Progression : Yes Number of Replay : 999 Play On Load :  
No Control Enable : Yes

Correct Marks : 3 Wrong Marks : 1

Question Label : Multiple Choice Question

The number of students who failed in Physics but not Mathematics is :  
छात्रों की संख्या, जो फिजिक्स में अनुत्तीर्ण हो लेकिन गणित में न हो, है :

Options :

- 1. 224
- 2. 318
- 3. 378

Question Number : 86 Question Id : 1982361343 Question Type : MCQ Option Shuffling : Yes Display Question Number : Yes  
Single Line Question Option : No Option Orientation : Vertical Allowed Progression : Yes Number of Replay : 999 Play On Load :  
No Control Enable : Yes

Correct Marks : 3 Wrong Marks : 1

Question Label : Multiple Choice Question

The number of students who failed in Physics or Mathematics but not in Chemistry is :

छात्रों की संख्या, जो फिजिक्स या गणित में अनुत्तीर्ण हो लेकिन केमिस्ट्री में न हो, है :

Options :

1. 628

2. 718

3. 558

4. 692

Sub-Section Number: 5  
Sub-Section Id: 19823639  
Question Shuffling Allowed : Yes

Question Number : 87 Question Id : 1982361344 Question Type : MCQ Option Shuffling : Yes Display Question Number : Yes  
Single Line Question Option : No Option Orientation : Vertical Allowed Progression : Yes Number of Replay : 999 Play On Load :  
No Control Enable : Yes

Correct Marks : 3 Wrong Marks : 1

Question Label : Multiple Choice Question

Find the arithmetic mean of following observations :

निम्नलिखित आँकड़ों का समान्तर माध्य निकालें :

20, 40, 0, 10, 30, 25, 15

Options :

1. 20

2. 22.22

3. 25.24

4. 40

Sub-Section Number: 6  
Sub-Section Id: 19823640  
Question Shuffling Allowed : Yes

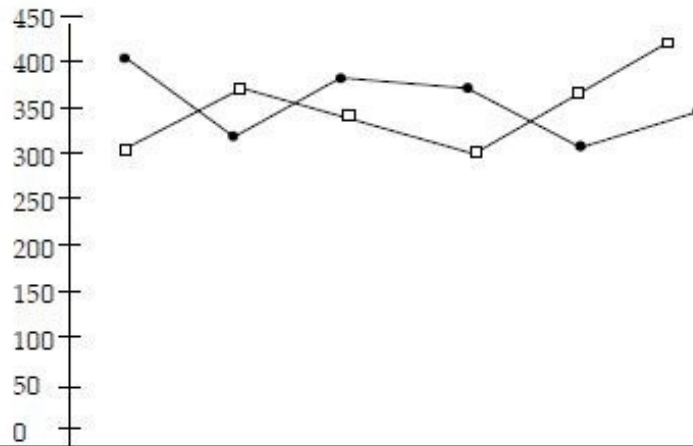
Question Id : 1982361345 Question Type : COMPREHENSION Sub Question Shuffling Allowed : Yes Group Comprehension Questions : No Allowed Progression : Yes Number of Replay : 999 Play On Load : No Control Enable : Yes

Question Numbers : (88 to 90)

Question Label : Comprehension

Read the graph and answer the question given below : Number of visas issued by U. S. A. for India and China in 6 different months.

ग्राफ पढ़े और नीचे दिये प्रश्न के उत्तर दें : 6 अलग-अलग महीनों में भारत और चीन के लिए यू० एस० ए० द्वारा जारी किए वीजा की संख्या।



	March मार्च	April अप्रैल	May मई	June जून	July जुलाई	August अगस्त
●— India भारत	400	310	360	320	250	300
—□— China चीन	300	350	280	250	320	360

Sub questions

Question Number : 88 Question Id : 1982361346 Question Type : MCQ Option Shuffling : Yes Display Question Number : Yes Single Line Question Option : No Option Orientation : Vertical Allowed Progression : Yes Number of Replay : 999 Play On Load : No Control Enable : Yes

Correct Marks : 3 Wrong Marks : 1

Question Label : Multiple Choice Question

What is the difference between the total number of visas issued for India and China together in April and the total number of visas issued for both the countries together in June ?

अप्रैल में एक साथ भारत और चीन के लिए वीजा की कुल संख्या और जून में एक साथ दोनों देशों के लिए जारी की गई कुल संख्या के बीच का अंतर क्या है ?

Options :

- 90
- 70
- 110
- 100

Question Number : 89 Question Id : 1982361347 Question Type : MCQ Option Shuffling : Yes Display Question Number : Yes  
Single Line Question Option : No Option Orientation : Vertical Allowed Progression : Yes Number of Replay : 999 Play On Load :  
No Control Enable : Yes

Correct Marks : 3 Wrong Marks : 1

Question Label : Multiple Choice Question

The number of visas issued for India in March decreased by 20% from the previous month. What is the ratio of visas issued for India in February to May ?

मार्च में भारत के लिए जारी किए गए वीजा की संख्या पिछले महीने से 20% कम हो गई है। फरवरी में भारत के लिए जारी किए गए वीजा और मई में जारी किए गए वीजा का अनुपात क्या है ?

Options :

1. 25 : 18
2. 25 : 13
3. 26 : 13
4. 24 : 13

Question Number : 90 Question Id : 1982361348 Question Type : MCQ Option Shuffling : Yes Display Question Number : Yes  
Single Line Question Option : No Option Orientation : Vertical Allowed Progression : Yes Number of Replay : 999 Play On Load :  
No Control Enable : Yes

Correct Marks : 3 Wrong Marks : 1

Question Label : Multiple Choice Question

The number of visas issued to India decreased by what percent from May to July ?

भारत के लिए जारी किए गए वीजा की संख्या मई से जून तक कितने प्रतिशत कम हुई ?

Options :

1.  $30\frac{5}{9}$
2. 33
3.  $35\frac{1}{3}$
4.  $32\frac{2}{3}$

Sec IV VA and Language English

Section Id :	19823631
Section Number :	4
Section type :	Online
Mandatory or Optional:	Optional
Number of Questions:	30

Number of Questions to be attempted: 30  
Section Marks: 90  
Display Number Panel: Yes  
Group All Questions: No

Sub-Section Number: 1  
Sub-Section Id: 19823641  
Question Shuffling Allowed : Yes

Question Number : 91 Question Id : 1982361349 Question Type : MCQ Option Shuffling : Yes Display Question Number : Yes  
Single Line Question Option : No Option Orientation : Vertical Allowed Progression : Yes Number of Replay : 999 Play On Load :  
No Control Enable : Yes

Correct Marks : 3 Wrong Marks : 1

Question Label : Multiple Choice Question

Select the word nearest in meaning to the given word :

Enigma :

Options :

1. enjoyment

2. energy

3. miser

4. mystery

Question Number : 92 Question Id : 1982361350 Question Type : MCQ Option Shuffling : Yes Display Question Number : Yes  
Single Line Question Option : No Option Orientation : Vertical Allowed Progression : Yes Number of Replay : 999 Play On Load :  
No Control Enable : Yes

Correct Marks : 3 Wrong Marks : 1

Question Label : Multiple Choice Question

Select the word nearest in meaning to the given word :

Cringe :

Options :

1. cower

2. corrupt

3. contain

4. contend

Question Number : 93 Question Id : 1982361351 Question Type : MCQ Option Shuffling : Yes Display Question Number : Yes  
Single Line Question Option : No Option Orientation : Vertical Allowed Progression : Yes Number of Replay : 999 Play On Load :  
No Control Enable : Yes

Correct Marks : 3 Wrong Marks : 1

Question Label : Multiple Choice Question

Select the word nearest in meaning to the given word :

Ravenous :

Options :

1. venemous
2. voracious
3. starving
4. deserving

Question Number : 94 Question Id : 1982361352 Question Type : MCQ Option Shuffling : Yes Display Question Number : Yes  
Single Line Question Option : No Option Orientation : Vertical Allowed Progression : Yes Number of Replay : 999 Play On Load :  
No Control Enable : Yes

Correct Marks : 3 Wrong Marks : 1

Question Label : Multiple Choice Question

Select the word opposite in meaning to the given word :

Promulgate :

Options :

1. withhold
2. drag
3. vex
4. solve

Question Number : 95 Question Id : 1982361353 Question Type : MCQ Option Shuffling : Yes Display Question Number : Yes  
Single Line Question Option : No Option Orientation : Vertical Allowed Progression : Yes Number of Replay : 999 Play On Load :  
No Control Enable : Yes

Correct Marks : 3 Wrong Marks : 1

Question Label : Multiple Choice Question

Select the word opposite in meaning to the given word :

Virulent :

Options :

1. unreal
2. faulty
3. combative
4. affectionate

Question Number : 96 Question Id : 1982361354 Question Type : MCQ Option Shuffling : Yes Display Question Number : Yes  
Single Line Question Option : No Option Orientation : Vertical Allowed Progression : Yes Number of Replay : 999 Play On Load :  
No Control Enable : Yes

Correct Marks : 3 Wrong Marks : 1

Question Label : Multiple Choice Question

Select the word opposite in meaning to the given word :

Convivial :

Options :

1. fleshy
2. ridiculous
3. unsociable
4. jovical

Question Number : 97 Question Id : 1982361355 Question Type : MCQ Option Shuffling : Yes Display Question Number : Yes  
Single Line Question Option : No Option Orientation : Vertical Allowed Progression : Yes Number of Replay : 999 Play On Load :  
No Control Enable : Yes

Correct Marks : 3 Wrong Marks : 1

Question Label : Multiple Choice Question

Select the correct meaning of the given idiomatic expression :

Lay down one's life :

Options :

1. surrender before god
2. state clearly and definitely
3. spoil one's life
4. sacrifice one's life

Question Number : 98 Question Id : 1982361356 Question Type : MCQ Option Shuffling : Yes Display Question Number : Yes  
Single Line Question Option : No Option Orientation : Vertical Allowed Progression : Yes Number of Replay : 999 Play On Load :  
No Control Enable : Yes

Correct Marks : 3 Wrong Marks : 1

Question Label : Multiple Choice Question

Select the correct meaning of the given idiomatic expression :

Brush-up :

Options :

1. Regain skill or knowledge
2. Refuse to consider

3. Accumulate money

4. Reveal clearly

Question Number : 99 Question Id : 1982361357 Question Type : MCQ Option Shuffling : Yes Display Question Number : Yes  
Single Line Question Option : No Option Orientation : Vertical Allowed Progression : Yes Number of Replay : 999 Play On Load :  
No Control Enable : Yes

Correct Marks : 3 Wrong Marks : 1

Question Label : Multiple Choice Question

Select the correct meaning of the given idiomatic expression :

Break-out :

Options :

1. an escape from prison

2. an occasion when a machine stops working

3. a series of drum beats

4. overcome

Question Number : 100 Question Id : 1982361358 Question Type : MCQ Option Shuffling : Yes Display Question Number : Yes  
Single Line Question Option : No Option Orientation : Vertical Allowed Progression : Yes Number of Replay : 999 Play On Load :  
No Control Enable : Yes

Correct Marks : 3 Wrong Marks : 1

Question Label : Multiple Choice Question

Select the correct meaning of the given idiomatic expression :

Breathe a word :

Options :

1. cause to arise

2. make one realize clearly

3. say the slightest thing

4. introduce a bill into parliament

Question Number : 101 Question Id : 1982361359 Question Type : MCQ Option Shuffling : Yes Display Question Number : Yes  
Single Line Question Option : No Option Orientation : Vertical Allowed Progression : Yes Number of Replay : 999 Play On Load :  
No Control Enable : Yes

Correct Marks : 3 Wrong Marks : 1

Question Label : Multiple Choice Question

Select the right word to fill in the blank in the given sentence :

Who must we ..... to ?

Options :



1. kill
2. yield
3. prevent
4. embrace

Question Number : 102 Question Id : 1982361360 Question Type : MCQ Option Shuffling : Yes Display Question Number : Yes  
Single Line Question Option : No Option Orientation : Vertical Allowed Progression : Yes Number of Replay : 999 Play On Load :  
No Control Enable : Yes

Correct Marks : 3 Wrong Marks : 1

Question Label : Multiple Choice Question

Select the right word to fill in the blank in the given sentence :  
..... upon our guide, we went on :

Options :

1. Believing
2. Focussing
3. Wringing
4. Depending

Question Number : 103 Question Id : 1982361361 Question Type : MCQ Option Shuffling : Yes Display Question Number : Yes  
Single Line Question Option : No Option Orientation : Vertical Allowed Progression : Yes Number of Replay : 999 Play On Load :  
No Control Enable : Yes

Correct Marks : 3 Wrong Marks : 1

Question Label : Multiple Choice Question

Select the right word to fill in the blank in the given sentence :  
They found the boat fast ..... in the creek :

Options :

1. aground
2. floating
3. ebbed
4. flowing

Question Number : 104 Question Id : 1982361362 Question Type : MCQ Option Shuffling : Yes Display Question Number : Yes  
Single Line Question Option : No Option Orientation : Vertical Allowed Progression : Yes Number of Replay : 999 Play On Load :  
No Control Enable : Yes

Correct Marks : 3 Wrong Marks : 1

Question Label : Multiple Choice Question

Choose the best option to form the right sentence :

..... is a rich country.

Options :

1. Her
2. Ours
3. Mine
4. Our

Question Number : 105 Question Id : 1982361363 Question Type : MCQ Option Shuffling : Yes Display Question Number : Yes  
Single Line Question Option : No Option Orientation : Vertical Allowed Progression : Yes Number of Replay : 999 Play On Load :  
No Control Enable : Yes

Correct Marks : 3 Wrong Marks : 1

Question Label : Multiple Choice Question

Choose the best option to form the right sentence :

Obey your boss, ..... he will kick you out :

Options :

1. and
2. but
3. because
4. otherwise

Question Number : 106 Question Id : 1982361364 Question Type : MCQ Option Shuffling : Yes Display Question Number : Yes  
Single Line Question Option : No Option Orientation : Vertical Allowed Progression : Yes Number of Replay : 999 Play On Load :  
No Control Enable : Yes

Correct Marks : 3 Wrong Marks : 1

Question Label : Multiple Choice Question

Choose the best option to form the right sentence :

A ..... croaks.

Options :

1. crow
2. frog
3. cock

4. cricket

Question Number : 107 Question Id : 1982361365 Question Type : MCQ Option Shuffling : Yes Display Question Number : Yes  
Single Line Question Option : No Option Orientation : Vertical Allowed Progression : Yes Number of Replay : 999 Play On Load :  
No Control Enable : Yes

Correct Marks : 3 Wrong Marks : 1

Question Label : Multiple Choice Question

Choose the best option to form the right sentence :

She was playing with a little fluffy .....

Options :

1. buffalo
2. cow
3. kitten
4. baby

Question Number : 108 Question Id : 1982361366 Question Type : MCQ Option Shuffling : Yes Display Question Number : Yes  
Single Line Question Option : No Option Orientation : Vertical Allowed Progression : Yes Number of Replay : 999 Play On Load :  
No Control Enable : Yes

Correct Marks : 3 Wrong Marks : 1

Question Label : Multiple Choice Question

Select the part of speech of the underlined word in the given sentence :

I am keeping well :

Options :

1. adverb
2. adjective
3. determiner
4. conjunction

Question Number : 109 Question Id : 1982361367 Question Type : MCQ Option Shuffling : Yes Display Question Number : Yes  
Single Line Question Option : No Option Orientation : Vertical Allowed Progression : Yes Number of Replay : 999 Play On Load :  
No Control Enable : Yes

Correct Marks : 3 Wrong Marks : 1

Question Label : Multiple Choice Question

Select the part of speech of the underlined word in the given sentence :

I don't approve of this cowardly act :

Options :

1. adverb
2. adjective
3. noun
4. determiner

Question Number : 110 Question Id : 1982361368 Question Type : MCQ Option Shuffling : Yes Display Question Number : Yes Single Line Question Option : No Option Orientation : Vertical Allowed Progression : Yes Number of Replay : 999 Play On Load : No Control Enable : Yes

Correct Marks : 3 Wrong Marks : 1

Question Label : Multiple Choice Question

Select the part of speech of the underlined word in the given sentence :

Somebody in the know told me he's going to resign :

Options :

1. adverb
2. adjective
3. noun
4. verb

Question Number : 111 Question Id : 1982361369 Question Type : MCQ Option Shuffling : Yes Display Question Number : Yes Single Line Question Option : No Option Orientation : Vertical Allowed Progression : Yes Number of Replay : 999 Play On Load : No Control Enable : Yes

Correct Marks : 3 Wrong Marks : 1

Question Label : Multiple Choice Question

Fill in the blanks with the correct preposition :

Don't sit ..... the grass. It's wet.

Options :

1. in
2. at
3. over
4. on

Question Number : 112 Question Id : 1982361370 Question Type : MCQ Option Shuffling : Yes Display Question Number : Yes  
Single Line Question Option : No Option Orientation : Vertical Allowed Progression : Yes Number of Replay : 999 Play On Load :  
No Control Enable : Yes

Correct Marks : 3 Wrong Marks : 1

Question Label : Multiple Choice Question

Fill in the blanks with the correct preposition :

I cut the paper ..... a pair of scissors.

Options :

1. at
2. with
3. by
4. from

Question Number : 113 Question Id : 1982361371 Question Type : MCQ Option Shuffling : Yes Display Question Number : Yes  
Single Line Question Option : No Option Orientation : Vertical Allowed Progression : Yes Number of Replay : 999 Play On Load :  
No Control Enable : Yes

Correct Marks : 3 Wrong Marks : 1

Question Label : Multiple Choice Question

Fill in the blanks with the correct preposition :

Refrain ..... smoking :

Options :

1. at
2. with
3. from
4. by

Question Number : 114 Question Id : 1982361372 Question Type : MCQ Option Shuffling : Yes Display Question Number : Yes  
Single Line Question Option : No Option Orientation : Vertical Allowed Progression : Yes Number of Replay : 999 Play On Load :  
No Control Enable : Yes

Correct Marks : 3 Wrong Marks : 1

Question Label : Multiple Choice Question

Select the word which has been correctly spelt.

Options :

1. magpy
2. magpei

3. megpie

4. magpie

Question Number : 115 Question Id : 1982361373 Question Type : MCQ Option Shuffling : Yes Display Question Number : Yes  
Single Line Question Option : No Option Orientation : Vertical Allowed Progression : Yes Number of Replay : 999 Play On Load :  
No Control Enable : Yes

Correct Marks : 3 Wrong Marks : 1

Question Label : Multiple Choice Question

Select the word which has been correctly spelt.

Options :

1. disasterous

2. disastrous

3. disesterous

4. disestrous

Question Number : 116 Question Id : 1982361374 Question Type : MCQ Option Shuffling : Yes Display Question Number : Yes  
Single Line Question Option : No Option Orientation : Vertical Allowed Progression : Yes Number of Replay : 999 Play On Load :  
No Control Enable : Yes

Correct Marks : 3 Wrong Marks : 1

Question Label : Multiple Choice Question

Choose the correct option to fill in the blank :

My father is ..... M.L.A.

Options :

1. a

2. an

3. the

4. no article

Question Number : 117 Question Id : 1982361375 Question Type : MCQ Option Shuffling : Yes Display Question Number : Yes  
Single Line Question Option : No Option Orientation : Vertical Allowed Progression : Yes Number of Replay : 999 Play On Load :  
No Control Enable : Yes

Correct Marks : 3 Wrong Marks : 1

Question Label : Multiple Choice Question

Choose the correct option to fill in the blank :

I love playing ..... football.

Options :

1. a
2. an
3. the
4. no article

Question Number : 118 Question Id : 1982361376 Question Type : MCQ Option Shuffling : Yes Display Question Number : Yes  
Single Line Question Option : No Option Orientation : Vertical Allowed Progression : Yes Number of Replay : 999 Play On Load :  
No Control Enable : Yes

Correct Marks : 3 Wrong Marks : 1

Question Label : Multiple Choice Question

Choose the correct option to fill in the blank :

This is ..... book I was looking for.

Options :

1. a
2. an
3. the
4. no article

Question Number : 119 Question Id : 1982361377 Question Type : MCQ Option Shuffling : Yes Display Question Number : Yes  
Single Line Question Option : No Option Orientation : Vertical Allowed Progression : Yes Number of Replay : 999 Play On Load :  
No Control Enable : Yes

Correct Marks : 3 Wrong Marks : 1

Question Label : Multiple Choice Question

Add a suitable tag question to the given sentence :

They will beat our team, .....

Options :

1. will they ?
2. can they ?
3. isn't it ?
4. won't they ?

Question Number : 120 Question Id : 1982361378 Question Type : MCQ Option Shuffling : Yes Display Question Number : Yes  
Single Line Question Option : No Option Orientation : Vertical Allowed Progression : Yes Number of Replay : 999 Play On Load :  
No Control Enable : Yes

Correct Marks : 3 Wrong Marks : 1

Question Label : Multiple Choice Question

Add a suitable tag question to the given sentence :

Let's go for a walk, .....

Options :

1. shall we ?
2. shan't we ?
3. will you ?
4. won't you ?

#### Sec IV VA and Language Hindi

Section Id :	19823632
Section Number :	5
Section type :	Online
Mandatory or Optional:	Optional
Number of Questions:	30
Number of Questions to be attempted:	30
Section Marks:	90
Display Number Panel:	Yes
Group All Questions:	No

Sub-Section Number:	1
Sub-Section Id:	19823642
Question Shuffling Allowed :	Yes

Question Number : 121 Question Id : 1982361379 Question Type : MCQ Option Shuffling : Yes Display Question Number : Yes  
Single Line Question Option : No Option Orientation : Vertical Allowed Progression : Yes Number of Replay : 999 Play On Load :  
No Control Enable : Yes

Correct Marks : 3 Wrong Marks : 1

Question Label : Multiple Choice Question

निम्नलिखित में कौन शब्द शुद्ध है ?

Options :

1. पिताम्बर
2. पीताम्बर
3. पितम्बर



पीतम्बर

4.

Question Number : 122 Question Id : 1982361380 Question Type : MCQ Option Shuffling : Yes Display Question Number : Yes  
Single Line Question Option : No Option Orientation : Vertical Allowed Progression : Yes Number of Replay : 999 Play On Load :  
No Control Enable : Yes

Correct Marks : 3 Wrong Marks : 1

Question Label : Multiple Choice Question

निम्नलिखित में कौन शब्द शुद्ध है ?

Options :

1. अनुगृहीत

2. अनुग्रहीत

3. अनूगृहीत

4. अनूग्रहीत

Question Number : 123 Question Id : 1982361381 Question Type : MCQ Option Shuffling : Yes Display Question Number : Yes  
Single Line Question Option : No Option Orientation : Vertical Allowed Progression : Yes Number of Replay : 999 Play On Load :  
No Control Enable : Yes

Correct Marks : 3 Wrong Marks : 1

Question Label : Multiple Choice Question

'देवार्चन' में कौन संधि है ?

Options :

1. वृद्धि संधि

2. दीर्घ संधि

3. गुण संधि

4. यण संधि

Question Number : 124 Question Id : 1982361382 Question Type : MCQ Option Shuffling : Yes Display Question Number : Yes  
Single Line Question Option : No Option Orientation : Vertical Allowed Progression : Yes Number of Replay : 999 Play On Load :  
No Control Enable : Yes

Correct Marks : 3 Wrong Marks : 1

Question Label : Multiple Choice Question

'लोकैषणा' में कौन संधि है ?

Options :

1. वृद्धि संधि

2. दीर्घ संधि
3. गुण संधि
4. अयादि संधि

Question Number : 125 Question Id : 1982361383 Question Type : MCQ Option Shuffling : Yes Display Question Number : Yes  
Single Line Question Option : No Option Orientation : Vertical Allowed Progression : Yes Number of Replay : 999 Play On Load :  
No Control Enable : Yes

Correct Marks : 3 Wrong Marks : 1

Question Label : Multiple Choice Question

'अत्यधिक' में कौन-सा उपसर्ग है ?

Options :

1. अ
2. अति
3. अत्
4. अत्य

Question Number : 126 Question Id : 1982361384 Question Type : MCQ Option Shuffling : Yes Display Question Number : Yes  
Single Line Question Option : No Option Orientation : Vertical Allowed Progression : Yes Number of Replay : 999 Play On Load :  
No Control Enable : Yes

Correct Marks : 3 Wrong Marks : 1

Question Label : Multiple Choice Question

इनमें से कौन अग्नि का पर्यायवाची नहीं है ?

Options :

1. अनिल
2. अनल
3. वहि
4. पावक

Question Number : 127 Question Id : 1982361385 Question Type : MCQ Option Shuffling : Yes Display Question Number : Yes  
Single Line Question Option : No Option Orientation : Vertical Allowed Progression : Yes Number of Replay : 999 Play On Load :  
No Control Enable : Yes

Correct Marks : 3 Wrong Marks : 1

Question Label : Multiple Choice Question

'माननीय' में कौन-सा प्रत्यय है ?

Options :

1. अनीय
2. नीय
3. य
4. निय

Question Number : 128 Question Id : 1982361386 Question Type : MCQ Option Shuffling : Yes Display Question Number : Yes Single Line Question Option : No Option Orientation : Vertical Allowed Progression : Yes Number of Replay : 999 Play On Load : No Control Enable : Yes

Correct Marks : 3 Wrong Marks : 1

Question Label : Multiple Choice Question

'चरणकमल' में कौन-सा समास है ?

Options :

1. बहुब्रीहि
2. कर्मधारय
3. द्विगु
4. द्वन्द्व

Question Number : 129 Question Id : 1982361387 Question Type : MCQ Option Shuffling : Yes Display Question Number : Yes Single Line Question Option : No Option Orientation : Vertical Allowed Progression : Yes Number of Replay : 999 Play On Load : No Control Enable : Yes

Correct Marks : 3 Wrong Marks : 1

Question Label : Multiple Choice Question

'महावीर' में कौन-सा समास है ?

Options :

1. बहुब्रीहि
2. द्विगु
3. कर्मधारय
4. द्वन्द्व

Question Number : 130 Question Id : 1982361388 Question Type : MCQ Option Shuffling : Yes Display Question Number : Yes Single Line Question Option : No Option Orientation : Vertical Allowed Progression : Yes Number of Replay : 999 Play On Load : No Control Enable : Yes

Correct Marks : 3 Wrong Marks : 1

Question Label : Multiple Choice Question

'आँख' किस प्रकार का शब्द है ?

Options :

1. तत्सम
2. तद्भव
3. देशज
4. विदेशी

Question Number : 131 Question Id : 1982361389 Question Type : MCQ Option Shuffling : Yes Display Question Number : Yes Single Line Question Option : No Option Orientation : Vertical Allowed Progression : Yes Number of Replay : 999 Play On Load : No Control Enable : Yes

Correct Marks : 3 Wrong Marks : 1

Question Label : Multiple Choice Question

'चन्द्रमा' का पर्यायवाची है :

Options :

1. मयंक
2. रजत
3. कौमुदी
4. उदक

Question Number : 132 Question Id : 1982361390 Question Type : MCQ Option Shuffling : Yes Display Question Number : Yes Single Line Question Option : No Option Orientation : Vertical Allowed Progression : Yes Number of Replay : 999 Play On Load : No Control Enable : Yes

Correct Marks : 3 Wrong Marks : 1

Question Label : Multiple Choice Question

'अल्पज्ञ' का विलोम है :

Options :

1. मूर्ख
2. बहुज्ञ
3. अज्ञानी
4. कृपण

Question Number : 133 Question Id : 1982361391 Question Type : MCQ Option Shuffling : Yes Display Question Number : Yes Single Line Question Option : No Option Orientation : Vertical Allowed Progression : Yes Number of Replay : 999 Play On Load : No Control Enable : Yes

Correct Marks : 3 Wrong Marks : 1

Question Label : Multiple Choice Question

'चिरन्तन' का विलोम है :

Options :

1. नश्वर
2. चिन्तनशील
3. चिन्तायुक्त
4. मननशील

Question Number : 134 Question Id : 1982361392 Question Type : MCQ Option Shuffling : Yes Display Question Number : Yes  
Single Line Question Option : No Option Orientation : Vertical Allowed Progression : Yes Number of Replay : 999 Play On Load :  
No Control Enable : Yes

Correct Marks : 3 Wrong Marks : 1

Question Label : Multiple Choice Question

हिन्दी भाषा के विकास का निर्देश भारतीय संविधान के किस अनुच्छेद में दिया गया है ?

Options :

1. 343
2. 351
3. 341
4. 348

Question Number : 135 Question Id : 1982361393 Question Type : MCQ Option Shuffling : Yes Display Question Number : Yes  
Single Line Question Option : No Option Orientation : Vertical Allowed Progression : Yes Number of Replay : 999 Play On Load :  
No Control Enable : Yes

Correct Marks : 3 Wrong Marks : 1

Question Label : Multiple Choice Question

राजभाषा हिन्दी का संकल्प किस सन् में पारित किया गया ?

Options :

1. 1947
2. 1950
3. 1968
4. 1977

Question Number : 136 Question Id : 1982361394 Question Type : MCQ Option Shuffling : Yes Display Question Number : Yes  
Single Line Question Option : No Option Orientation : Vertical Allowed Progression : Yes Number of Replay : 999 Play On Load :  
No Control Enable : Yes

Correct Marks : 3 Wrong Marks : 1

Question Label : Multiple Choice Question

'ब्राह्मण' पत्रिका के सम्पादक थे :

Options :

1. प्रताप नारायण मिश्र
2. शांतिप्रिय द्विवेदी
3. महावीर प्रसाद द्विवेदी
4. बालकृष्ण भट्ट

Question Number : 137 Question Id : 1982361395 Question Type : MCQ Option Shuffling : Yes Display Question Number : Yes  
Single Line Question Option : No Option Orientation : Vertical Allowed Progression : Yes Number of Replay : 999 Play On Load :  
No Control Enable : Yes

Correct Marks : 3 Wrong Marks : 1

Question Label : Multiple Choice Question

'हंस' पत्रिका के संस्थापक-संपादक कौन थे ?

Options :

1. महावीर प्रसाद द्विवेदी
2. प्रेमचन्द
3. राजेन्द्र यादव
4. माखन लाल चतुर्वेदी

Question Number : 138 Question Id : 1982361396 Question Type : MCQ Option Shuffling : Yes Display Question Number : Yes  
Single Line Question Option : No Option Orientation : Vertical Allowed Progression : Yes Number of Replay : 999 Play On Load :  
No Control Enable : Yes

Correct Marks : 3 Wrong Marks : 1

Question Label : Multiple Choice Question

'अभ्युदय' का सम्पादक कौन था ?

Options :

1. भारतेन्दु हरिश्चन्द्र
2. बालकृष्ण भट्ट
3. मदन मोहन मालवीय
4. महात्मा गाँधी

Question Number : 139 Question Id : 1982361397 Question Type : MCQ Option Shuffling : Yes Display Question Number : Yes  
Single Line Question Option : No Option Orientation : Vertical Allowed Progression : Yes Number of Replay : 999 Play On Load :  
No Control Enable : Yes

Correct Marks : 3 Wrong Marks : 1

Question Label : Multiple Choice Question

'पृथ्वीराज रासो' महाकाव्य की रचना किसने की ?

Options :

1. चंदबरदायी
2. जगनिक
3. नरपति नाल्ह
4. अब्दुल रहमान

Question Number : 140 Question Id : 1982361398 Question Type : MCQ Option Shuffling : Yes Display Question Number : Yes  
Single Line Question Option : No Option Orientation : Vertical Allowed Progression : Yes Number of Replay : 999 Play On Load :  
No Control Enable : Yes

Correct Marks : 3 Wrong Marks : 1

Question Label : Multiple Choice Question

सगुण भक्ति का मूल आधार किस ग्रंथ को माना जाता है ?

Options :

1. उपनिषद्
2. गीता
3. श्रीमद्भागवत
4. महाभारत

Question Number : 141 Question Id : 1982361399 Question Type : MCQ Option Shuffling : Yes Display Question Number : Yes  
Single Line Question Option : No Option Orientation : Vertical Allowed Progression : Yes Number of Replay : 999 Play On Load :  
No Control Enable : Yes

Correct Marks : 3 Wrong Marks : 1

Question Label : Multiple Choice Question

'रामचंद्रिका' की रचना किसने की ?

Options :

1. केशवदास
2. तुलसीदास
3. सूरदास

4. पद्माकर

Question Number : 142 Question Id : 1982361400 Question Type : MCQ Option Shuffling : Yes Display Question Number : Yes  
Single Line Question Option : No Option Orientation : Vertical Allowed Progression : Yes Number of Replay : 999 Play On Load :  
No Control Enable : Yes

Correct Marks : 3 Wrong Marks : 1

Question Label : Multiple Choice Question

'श्रीरामचरितमानस' में कुल कितने सोपान हैं ?

Options :

1. नौ
2. सात
3. ग्यारह
4. पाँच

Question Number : 143 Question Id : 1982361401 Question Type : MCQ Option Shuffling : Yes Display Question Number : Yes  
Single Line Question Option : No Option Orientation : Vertical Allowed Progression : Yes Number of Replay : 999 Play On Load :  
No Control Enable : Yes

Correct Marks : 3 Wrong Marks : 1

Question Label : Multiple Choice Question

'पार्वती मंगल' किसकी रचना है ?

Options :

1. तुलसीदास
2. विद्यापति
3. केशवदास
4. नाभादास

Question Number : 144 Question Id : 1982361402 Question Type : MCQ Option Shuffling : Yes Display Question Number : Yes  
Single Line Question Option : No Option Orientation : Vertical Allowed Progression : Yes Number of Replay : 999 Play On Load :  
No Control Enable : Yes

Correct Marks : 3 Wrong Marks : 1

Question Label : Multiple Choice Question

'उज्ज्वल नीलमणि' किसकी रचना है ?

Options :

1. चण्डीदास
2. रूप गोस्वामी



3. जयदेव

4. सनातन गोस्वामी

Question Number : 145 Question Id : 1982361403 Question Type : MCQ Option Shuffling : Yes Display Question Number : Yes  
Single Line Question Option : No Option Orientation : Vertical Allowed Progression : Yes Number of Replay : 999 Play On Load :  
No Control Enable : Yes

Correct Marks : 3 Wrong Marks : 1

Question Label : Multiple Choice Question

‘उत्तरमध्यकाल’ को शृंगार काल किसने कहा है ?

Options :

1. विश्वनाथ प्रसाद मिश्र

2. रामचन्द्र शुक्ल

3. हजारी प्रसाद द्विवेदी

4. श्यामसुंदर दास

Question Number : 146 Question Id : 1982361404 Question Type : MCQ Option Shuffling : Yes Display Question Number : Yes  
Single Line Question Option : No Option Orientation : Vertical Allowed Progression : Yes Number of Replay : 999 Play On Load :  
No Control Enable : Yes

Correct Marks : 3 Wrong Marks : 1

Question Label : Multiple Choice Question

‘राम की शक्ति पूजा’ किसकी रचना है ?

Options :

1. निराला

2. जयशंकर प्रसाद

3. सुमित्रानंदन पंत

4. जानकी वल्लभ शास्त्री

Question Number : 147 Question Id : 1982361405 Question Type : MCQ Option Shuffling : Yes Display Question Number : Yes  
Single Line Question Option : No Option Orientation : Vertical Allowed Progression : Yes Number of Replay : 999 Play On Load :  
No Control Enable : Yes

Correct Marks : 3 Wrong Marks : 1

Question Label : Multiple Choice Question

नागरी प्रचारिणी सभा, काशी की स्थापना किस वर्ष हुई थी ?

Options :

1. 1893

2. 1947
3. 1950
4. 1857

Question Number : 148 Question Id : 1982361406 Question Type : MCQ Option Shuffling : Yes Display Question Number : Yes  
Single Line Question Option : No Option Orientation : Vertical Allowed Progression : Yes Number of Replay : 999 Play On Load :  
No Control Enable : Yes

Correct Marks : 3 Wrong Marks : 1

Question Label : Multiple Choice Question

'शेखर : एक जीवनी' किसकी रचना है ?

Options :

1. रामविलास शर्मा
2. अज्ञेय
3. दिनकर
4. विद्यानिवास मिश्र

Question Number : 149 Question Id : 1982361407 Question Type : MCQ Option Shuffling : Yes Display Question Number : Yes  
Single Line Question Option : No Option Orientation : Vertical Allowed Progression : Yes Number of Replay : 999 Play On Load :  
No Control Enable : Yes

Correct Marks : 3 Wrong Marks : 1

Question Label : Multiple Choice Question

'चिन्तामणि' निबंध संग्रह किसका है ?

Options :

1. हजारी प्रसाद द्विवेदी
2. रामचंद्र शुक्ल
3. कुबेरनाथ राय
4. अज्ञेय

Question Number : 150 Question Id : 1982361408 Question Type : MCQ Option Shuffling : Yes Display Question Number : Yes  
Single Line Question Option : No Option Orientation : Vertical Allowed Progression : Yes Number of Replay : 999 Play On Load :  
No Control Enable : Yes

Correct Marks : 3 Wrong Marks : 1

Question Label : Multiple Choice Question

'नीला चाँद' उपन्यास की रचना किसने की ?

Options :

1. हजारी प्रसाद द्विवेदी
2. चतुरसेन शास्त्री
3. वृंदावन लाल वर्मा
4. शिव प्रसाद सिंह